

Управление образованием Городского округа «город Ирбит» Свердловской области
Муниципальное казённое учреждение Городского округа «город Ирбит» Свердловской области
«Комплексный центр системы образования»
Городское методическое объединение учителей начальных классов

Сборник олимпиадных заданий для учащихся 4 классов



2024 год

*Содержание сборника рассмотрено и утверждено на заседании
Методического совета общеобразовательных организаций
Городского округа «город Ирбит» Свердловской области
5 декабря 2024 года.*

*Рекомендовать к использованию для подготовки к школьному
и муниципальному этапу олимпиад для 4 класса по окружающему миру,
математике, русскому языку*

*«Сборник олимпиадных заданий для учащихся 4 классов»: сб. олимпиадных
заданий//под ред. Колесниковой Е.Н., учителя начальных классов МАОУ «Школа
№ 9» и Ширшовой М.А., руководителя городского методического объединения
учителей начальных классов ГО «город Ирбит», 2024 г. - 88 стр.*

Сборник олимпиадных заданий составлен педагогами начальных классов образовательных организаций города Ирбита в рамках фестиваля «Юные интеллектуалы Среднего Урала» и Всероссийской олимпиады школьников. В данный сборник вошли олимпиадные задания по окружающему миру, русскому языку, математике для 4 классов.

Материалы олимпиадных заданий взяты из разных источников: методическая литература, интернет - ресурсы. Данный сборник будет полезен учителям и обучающимся начальной школы, родителям для подготовки к школьному и муниципальному этапу олимпиад по окружающему миру, русскому языку, математике. Содержит методические рекомендации для учителей по составлению олимпиадных заданий.

При публикации материалов сохранен авторский стиль изложения, авторы несут ответственность за точность использованных материалов, «ключей» и прочих сведений. Позиции редакционной коллегии и авторов материалов не всегда совпадают.

Содержание

Олимпиады для 4 класса

Олимпиада по математике 4 класс

Соколова Е. А., учитель начальных классов МАОУ «Школа № 13»	4
Тупицына С. Н., учитель начальных классов МАОУ «Школа № 1»	8

Олимпиада по русскому языку 4 класс

Масалкина А. Ю., учитель начальных классов МАОУ «Школа № 9»	18
Молодых Н. М., учитель начальных классов МАОУ «Школа № 10»	21

Олимпиада по окружающему миру 4 класс

Колесникова Е. Н., учитель начальных классов МАОУ «Школа № 9»	41
Масалкина А. Ю., учитель начальных классов МАОУ «Школа № 9»	51
Панова С.А., учитель начальных классов МАОУ «Школа № 18»	59
Тупицына С. Н., учитель начальных классов МАОУ «Школа № 1»	68
Ширшова М. А., учитель начальных классов МАОУ «Школа № 18»	71

Требования к оформлению олимпиадной работы	85
---	-----------

Олимпиада по математике 4 класс

1. Сколько всего можно составить четырехзначных чисел, сумма цифр которых равна 3? Перечисли эти числа.

Ответ: _____

2. Алина написала все числа от 1 до 1000. Сколько цифр написала Алина?

Ответ: _____

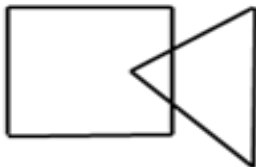
3. Кот Маркиз спит в январе ровно 3 недели. Сколько минут в январе он бодрствует?

Ответ: _____

4. Мама печет блины и кладёт их на тарелку. За 5 мин она выпекает 12 блинчиков. Олег и его брат вместе съедают за 5 мин 10 блинчиков. Сколько блинчиков будет на тарелке через 10 мин, если мама будет печь блинчики так же быстро, а братья так же быстро будут их есть?

Ответ: _____

5. Аня дала брату Денису лист бумаги, на котором нарисован треугольник и квадрат. Денис поставил внутри квадрата 3 точки, а внутри треугольника – 2 точки. Всего получилось 4 точки, причём ни одна из них не расположена на сторонах квадрата и треугольника. Покажи, как Денис поставил точки.



6. Гном разложил свои сокровища в 3 сундука разного цвета, стоящие у стены: в один – драгоценные камни, в другой – золотые монеты, в третий – магические книги. Он помнит, что красный сундук находится правее, чем камни, и что книги – правее красного сундука. В каком сундуке лежат книги, если зелёный сундук стоит левее синего?

Ответ: _____

7. Во дворе ходят гуси и козочки, у всех вместе 44 ноги и 14 голов. Сколько гусей и козочек ходят во дворе?

Ответ: _____

8. После того, как спортсмен пробежал треть всей дистанции и ещё 400 м, ему осталось пробежать ещё треть пути и ещё 200 м. Чему равна длина дистанции

Ответ: _____

9. Рысь съедает 600 кг мяса за 6 часов, а тигр в 2 раза быстрее. За какое время они съедят это мясо вместе?

Ответ: _____

10. На двери пещеры с сокровищами висит кодовый замок с шифром

$$\square \square : \square = \square - \square = \square + \square = \square \cdot \square$$

Нужно набрать на замке семь разных цифр (1, 2, 3, 4, 5, 6, 7, 8, 9) так, чтобы цифры не повторялись и равенства были верными.

Ответ: _____

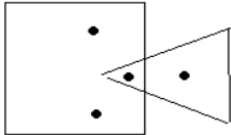
11. В квартире две комнаты. Длина первой комнаты 5м, а ширина – 4м. Вторая комната имеет ту же ширину, но она на 2м длиннее. За побелку потолка второй комнаты заплатили на 80р. больше. Сколько заплатили за побелку потолков обеих комнат?

Ответ: _____

12. 3 цыплёнка и 2 гусёнка стоят 99 рублей, а 5 цыплят и 4 гусёнка стоят 183 рубля. Сколько стоит 1 цыплёнок и 1 гусёнок в отдельности?

Ответ: _____

Ответы и критерии оценивания

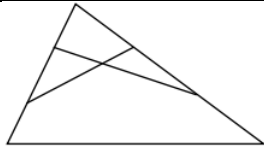
№	Ответ	Количество баллов
1	10 чисел: 3000, 2100, 2010, 2001, 1200, 1020, 1002, 1110, 1101, 1011.	1 балл
2	<p>Первые девять однозначных чисел написаны девятью цифрами.</p> <p>Двузначные числа от 10 до 99 требуют по две цифры. А так как этих чисел $99 - 9 = 90$, то на их написание ушло 180 цифр.</p> <p>На трехзначные числа (а их $999 - 99 = 900$) ушло $3 \times 900 = 2700$ цифр.</p> <p>И на число 1000 потрачено четыре цифры.</p> <p>Общее число написанных Алиной цифр равно: $9 + 2 \times 90 + 3 \times 900 + 4 = 2893$ цифры.</p> <p>Ответ: 2893.</p>	2 балла
3	<p>$(31-3 \times 7) \times 24 \times 60 = 14400$ минут</p> <p>Ответ: 14400 минут</p>	Максимальная оценка - 2 балла. Решение с ответом оценивается в 2 балла. Один ответ оценивается в 1 балл.
4	<p>Ответ: 4 блинчика.</p> <p>Вариант решения: $(12+12) - (10+10) = 4$ (б.)</p>	Максимальная оценка - 2 балла. Решение с ответом оценивается в 2 балла. Один ответ оценивается в 1 балл.
5		2 балла
6	<p>По условию, сундук с камнями стоит левее красного, а сундук с книгами правее красного. Значит, красный сундук стоит посередине и в нём лежат золотые монеты. Так как зелёный и синий сундуки – крайние и зелёный стоит левее синего, то зелёный – крайний слева, а синий – крайний справа. Вспоминая, что камни левее, а книги правее красного сундука, приходим к выводу, что камни лежат в зелёном, а книги – в синем сундуке.</p> <p>Ответ: книги – в синем сундуке.</p>	2 балла.
7	8 козочек и 6 гусей	2 балла

8	<p>Решение Весь путь = (треть + 400 м) + (треть + 200 м) Получается, что треть пути составляет 600 м. $600 \cdot 3 = 1\ 800$ (м) Ответ: 1800 метров</p>	3 балла
9	<p>1) $600:6=100$(кг) – за 1 час съедает рысь 2) $100*2=200$(кг) – за 1 час съедает тигр 3) $100+200=300$(кг) – вместе за 1 час 4) $600:300=2$ (ч) Ответ: за 2 часа рысь и тигр съедят это мясо.</p>	3 балла
10	<p>$\square \square : \square = \square - \square = \square + \square = \square \cdot \square$ 56: 8 = 9 – 2 = 3 + 4 = 7 x 1</p>	3 балла
11	<p>Решение: 1) $5 \cdot 4 = 20$ (м²) – площадь потолка 1 – й комнаты. 2) $5 + 2 = 7$ (м) – длина потолка 2 – й комнаты. 3) $4 \cdot 7 = 28$ (м²) – площадь потолка 2 – й комнаты 4) $28 - 20 = 8$ (м²) – на столько площадь потолка второй комнаты больше. 5) $80 : 8 = 10$ (р.) - стоимость побелки 1 м² потолка. 6) $20 + 28 = 48$ (м²) - площадь потолков обеих комнат. 7) $10 \cdot 48 = 480$ (р.) – стоимость побелки потолков обеих комнат. Ответ: 480 рублей.</p>	<p>4 балла а) Правильный ответ и решение с пояснением действий – 4 балла б) Правильное решение, ответ и нет словесного пояснения (частичное пояснение) – 3 балла в) Правильный ход решения, пояснение к действиям и ошибка в вычислениях – 2 балла г) Неверное решение и ответ – 0 баллов</p>
12	<p>Если 3 цыплёнка и 2 гусёнка стоят 99 рублей, то 6 цыплят и 4 гусёнка стоят 198 рублей. По условию 5 цыплят, то значит, $6 - 5 = 1$ цыплёнок, и он стоит: $198 - 183 = 15$ (руб.) Ответ: 15 рублей</p>	4 балла
Максимальное количество баллов: 30 баллов		

Ответы и критерии оценивания

№	Ответ	Количество баллов
1	3	2 балла
2	8	3 балла
3	21	2 бала
4	6	1 балл
5	1) $24 \times 20 = 480$ (сек) – отстали за сутки 2) $480 : 60 = 8$ (мин) – отстали за сутки 3) 12 ч – 8 мин = 11ч 52 мин – стали показывать Ответ: 11ч 52 мин	4 балла, если записано решение задачи и пояснения. 3балла -задача решена без пояснения. 2 балла - записан только ответ. В остальных случаях - 0 баллов
6	18 : 12	1 балл
7	15	2 балла
8	Ответ: Буратино обманул 4 раза.	3 балла
9	Д	1 балл
10	3 года	1 балл
11	в 50 раз	2 балла
12	1) $250 \cdot 3 = 750$ (руб.) стоят 3 чашки и 3 блюда 2) $887 - 750 = 137$ (руб.) стоит одна чашка 3) $250 - 137 = 113$ (руб.) стоит одно блюдо Ответ: 137 руб. стоит одна чашка, 113 руб. стоит одно блюдо	4 балла, если записано решение задачи и пояснения. 3балла - задача решена без пояснения. 2 балла- записан только ответ. В остальных случаях - 0 баллов
Максимальное количество баллов: 26 баллов		

Ответы и критерии оценивания

№	Ответ	Количество баллов
1	Вычеркнуть цифры 4,9,2,5. число: 108	1 балл
2	$270 : 9 - 4 \cdot 6 = 6$	2 балл
3	4 внука	2 балла
4	$650 + 65 = 715$	3 балла
5	8 баранок.	2 балла
6	Огурцов - 8 кг, помидоров - 8 кг, лука - 2 кг	2 балла
7	1) $10 \times 10 = 100$ (см ²) - площадь листа бумаги 2) $100 : 25 = 4$ (кв.) - квадрата получится 3) $4 \times 2 = 8$ (тр.) - треугольников получится Ответ: 8 треугольников	4 балла, если записано решение задачи и пояснения. 3 балла - задача решена без пояснения. 2 балла - записан только ответ. 1 балл – есть попытки решения.
8	1) $450 : 50 \times 8 = 72$ (руб.) – за шоколадные конфеты 2) $180 : 6 \times 1 = 30$ (руб.) - пряник 3) $210 : 70 \times 10 = 30$ (руб.) – карамель 4) $18 + 72 + 30 + 30 + 120 + 30 = 300$ (руб.) – стоит подарок Ответ: 300 рублей	5 баллов, если записано решение задачи и пояснения. 4 балла - задача решена без пояснения. 2 балла- записан только ответ. 1 балл – есть попытки решения.
9	а) 25, 4, 100, 26, 5, 130, 27, 6, 162. б) 16, 48, 17, 51, 18, 54, 19, 57.	2 балла (1 балл за каждый ряд)
10	 <i>Возможны другие варианты</i>	4 балла
11	Одинаково	1 балл
Максимальное количество баллов: 29 баллов		

Олимпиада по математике 4 класс

1. Дорожка выложена из 14 квадратных плит (одна за другой) со стороной 1 м. Антон отметил центр каждой плиты и соединил эти точки линией. Какую длину имеет эта линия?

Ответ: _____

2. Самолет со 100 пассажирами на борту летел со скоростью 700 км/ч. С какой скоростью летел каждый пассажир?

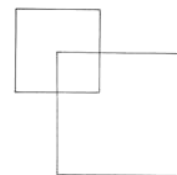
Ответ: _____

3. В представлении должны были участвовать три клоуна: Джон, Ганс, Иван. Им дали три колпака – красный, желтый, зеленый, три рубашки – красную, желтую и зеленую и три пары штанов – красные, желтые и зеленые. Клоуны оделись так, что у каждого колпак, рубашка и штаны были разных цветов. Ганс взял зеленую рубашку, а Джон – красные штаны. Как был одет Иван?

Ответ: Иван был в _____ колпаке, _____ рубашке и _____ штанах.

4. Запиши решение и поясни.

Периметр нижнего квадрата 24 см. Периметр верхнего на 8 см меньше. Найди площадь наименьшего квадрата, если известно, что сторона нижнего квадрата при пересечении со стороной верхнего квадрата делит эту сторону пополам.



Ответ: _____

5. Чтобы найти пиратский клад, надо пройти от старого дуба 12 шагов на север, потом 5 шагов – на юг, потом ещё 4 шага – на север и ещё 11 шагов – на юг. Где зарыт клад? Объясни свой ответ.

Ответ: _____

6. Из 5 одинаковых отрезков построй два треугольника:

7. В туристический лагерь прибыло 240 учеников из г. Москвы и Орла. Мальчиков среди прибывших было 125 человек, из которых 65 - москвичи. В числе учеников, прибывших из Орла, девочек было 53. Сколько всего учеников прибыло из Москвы?

Ответ: _____

8. Какое число обозначает каждая буква в выражении $T + O + Ч + K + A = 350$, если известно, что: $T = 0 : 70$ $K = A \cdot 3$ $O = K + A$ $A = 280 : 7$

Ответ: $T = \underline{\quad}$, $O = \underline{\quad}$, $Ч = \underline{\quad}$, $K = \underline{\quad}$, $A = \underline{\quad}$

9. С помощью четырёх цифр 5 составь выражение, значение которого равно 12
 $5\ 5\ 5\ 5 = 12$

10. Чему равна сумма второго и третьего двузначных чисел. Из предложенных вариантов ответов, выбери верный.

- а) шестому двузначному числу;
- б) четырнадцатому двузначному числу;
- в) трехзначному числу;
- г) двадцать третьему двузначному числу.

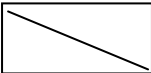
11. Отгадай ребусы



12. Если вчера был вторник, то послезавтра будет?

Ответ: _____

Ответы и критерии оценивания

№	Ответ	Количество баллов
1	13 м	1 балл
2	700 км/ч	1 балл
3	Иван был в желтом колпаке, красной рубашке и зеленых штанах.	2 балла, если указан цвет всех предметов, 1 балл, если указа цвет 2 предметов. В остальных случаях 0 баллов.
4	1) $24-8=16$ см - периметр верхнего 2) $16:4=4$ см - сторона верхнего квадрата 3) $4:2=2$ см - сторона наименьшего 4) $2 \cdot 2=4$ кв.см. - площадь наименьшего квадрата	4 балла, если записано решение задачи и пояснения. 3 балла - задача решена без пояснения 2 балла - записан только ответ.
5	По инструкции приходится всё время шагать по одной и той же тропе вперёд и назад, поэтому клад зарыт под старым дубом .	3 балла ответ объяснён, 2 балла записан только ответ.
6	Вариант ответа. 	2 балла
7	1) $240-125=115$ девочек из Москвы и Орла 2) $115-53=62$ девочек из Москвы 3) $65+62=127$ детей из Москвы Допускается другая последовательность действий и рассуждений, обоснованно приводящая к верному ответу.	4 балла проведены все необходимые рассуждения, приводящие к ответу. 3 балла допущена одна арифметическая ошибка, не нарушающая общей логики решения, в результате чего получен неверный ответ ИЛИ задача решена без пояснений. 2 балла записан только ответ задачи без рассуждений. 1 балл – есть попытки решения. В остальных случаях 0 баллов.
8	$T = 0, O = 160, Ч = 30, K = 120, A = 40$	3 балла за все 5

		правильно найденные числа, 2 балла за 3-4 числа, 1 балл за 2 числа.
9	Варианты ответов: (55 + 5) : 5 ИЛИ (5 + 55):5	2 балла
10	б) четырнадцатому двузначному числу (11+12= 23; 23 по порядку 14 двузначное число)	2 балла
11	Минус, число	2 балла (1балл за ребус).
12	Пятница	1 балл
Максимальное количество баллов: 29 баллов		

Олимпиада по русскому языку 4 класс

1. Какие слова получатся, если прочесть данные слова, заменяя звонкие согласные звуки на глухие:

Груба - _____

Дубить - _____

обрызгать - _____

2. Отгадайте загадку.

Я у человека, животного, у плодов растений; могу быть гусиной; в меня советуют влезть, чтобы узнать, каково другому; из меня вылезают, старясь кому-либо угодить.

Ответ: _____

3. Объясните, что означают выделенные слова в отрывке из «Сказке о царе Салтане, о сыне его славном и могучем богатыре князе Гвидоне Салтановиче и о прекрасной царевне Лебеди» А.С. Пушкина:

...Идут витязи четами,

И, блистая сединами,

Дядька впереди идёт

И ко граду их ведёт.

Ответ: витязи _____

четами _____

сединами _____

граду _____

4. С каким из данных существительных прилагательное круглый имеет не такое значение, как с остальными? Обведи нужную букву.

(А) отличник; (Б) сирота; (В) дурак; (Г) год; (Д) поднос

5. Определите, какой частью речи могут данные слова. Составьте предложения с ними, выступающими в роли разных частей речи.

Стекло, три.

Стекло _____

1. _____

2. _____

Три _____

1. _____

2. _____

6. Анаграмма –перестановка букв в слове (или в нескольких словах) в любом порядке, в результате которой образуется новое слово, например: арка – кара.

Из букв слов САРАЙ, КЛОУН, СТУК, МУКА, РОПОТ, ШПАЛА составьте слова - анаграммы.

Ответ: сарай _____, клоун _____, стук _____,
Мука _____, ропот _____, шпала _____.

7. Раскройте смысл выражений:

рукой подать _____

в час по чайной ложке _____

во весь дух _____

морочить голову _____

работать, засучив рукава _____

работать спустя рукава _____

8. Найдите в стихотворении однокоренные слова.

Дождик льёт- кругом вода,

Мокнут столб и провода,

Мокнут кони и подвода,

Дым над крышами завода.

От бегущих быстрых вод

Задрожал водоотвод.

Протекает небосвод-

На земле водоворот,

А по лужам у ворот

Дети водят хоровод.

Ответ: _____

9. В каком предложении нужно поставить ОДНУ запятую (знаки препинания не расставлены):Обведи букву с правильным ответом.

А) В зимнем лесу сумрачно и глухо.

Б) Он привык к движению к жизни к суете.

В) Зимнее солнце светит но не греет.

10. В одном африканском племени живет семья из четырех человек. Мать зовут Бере-руб-оро-дак (темный цветок без запаха), отца – Кобо-рудо-дир (большая зеленая гора). Старшему сыну родители дали имя Дак –руб-пеле (запах цветочного поля). Что означает имя младшего сына Кобо-пеле-оро-руб?

Ответ: _____

Ответы и критерии оценивания

№	Ответ	Количество баллов
1	Крупа, тупить, опрыскать	За каждое верно написанное слово 1 балл. Итого 3 балла
2	кожа	2 балла
3	Витязь - храбрый воин, богатырь четами -парами Седины - седые волосы. Град - город	За каждое верно написанное объяснение слова 1 балл. Итого 4 балла
4	поднос	1 балл
5	Стекло-существительное, глагол Три-числительное, глагол	За верно указанные части речи по 0,5 баллов за каждое слово. За верно составленные предложения 4 балла. Итого 6 баллов.
6	Сарай-сайра Клоун- уклон Стук-куст Мука-кума Ропот-топор Шпала-лапша	6 баллов
7	рукой подать-близко в час по чайной ложке-медленно во весь дух-быстро морочить голову-вводить в заблуждение работать, засучив рукава-работать усердно работать, спустя рукава-лениться(бездельничать)	6 баллов
8	Вода, вод, водоотвод, водоворот	4 балла
9	Зимнее солнце светит, но не греет	1 балл
10	Большое поле без цветка	2 балла
Максимальное количество баллов: 35 баллов		

Олимпиада по русскому языку 4 класс

Базовый уровень

1. Найдите лишнее слово по фонетическому признаку.

Гриб, зуб, таз, плод, год, сон, миг, уж, рог.

Ответ: _____

2. Выберите правильные утверждения.

А) Слова «кол» и «коллекция» - однокоренные.

Б) Звуки [ч'], [ц], [щ'] - являются непарными мягкими согласными.

В) Предложения по цели высказывания могут быть вопросительными, побудительными и восклицательными.

Г) Буквы «е», «ё», «ю», «я», стоящие после гласной, обозначают два звука.

Д) В слове «шутка» содержится суффикс «к».

3. Подчеркни в каждом предложении грамматическую основу.

А) За рекой находится село.

Б) Солнце село за горизонт.

4. Найдите «беглеца». Особые приметы: есть приставка и суффикс. Также известно, что в этом слове четыре слога, количество звуков и букв совпадает.

Волк Морозу тащит шубу меховую,

А Лисица – шапку рыжую, большую.

Зайцы рукавицы принесли к саням.

А мешок с подарками появился сам.

Семь коней горячих вихрем – под откос!

Едет-едет к детям Дедушка Мороз.

Ответ: _____

5. Допиши окончания слов в предложениях.

А) Поступил... в продажу дешёв..., но очень красив... тюль.

Б) Поступил... в продажу три женск... пальто 48 размера.

6. Прочитай отрывок из стихотворения Льва Квитко. Найди рифмы, слова в которых принадлежат к разным частям речи. Подчеркни их, укажи части речи.

...Оконные стёкла
Дрожат под дождём.
Собака промокла
И просится в дом.
Вот в лужу из лужи,
Вертясь, как волчок,
Ползет неуклюжий
Рогатый жучок.

7. В каких из перечисленных ниже глаголах можно по-разному поставить ударение? Подчеркни их.

Вычитать, прочитать, рассыпать, выкупать, искупать, вырезать, отрезать.

Повышенный уровень

8. Перед тобой транскрипция (фонетическая запись) нескольких предложений. Запиши эти предложения буквами по правилам орфографии.

*[у м'ин'а п'ич'ал'ный' в'ит / галава май'а бал'ит //
й'а ч'ихай'у / й'а ахр'ип // што такой'э // эта гр'ип //]*

9. Соблюдая правило русской грамматики, выбери словосочетания, в которых необходимо поставить мягкий знак после шипящих.

- | | |
|-----------------------|---------------------|
| А) Пятлая куш... | Г) Дормый делаж... |
| Б) Бурявый папалош... | Д) Вылюный вагач... |
| В) Мяувая дуч... | Е) Желомная беч... |

10. Из всех букв, входящих в слова, составьте новые слова, которые относятся к теме «Еда».

- А) КРОТ + КАША = _____
- Б) ТОСКА + ПАР + ШОВ = _____
- В) БОБР + РЕДУТ = _____

Максимальный уровень

11. Узнай в картинке фразеологизм и запиши его. Замени известное выражение одним словом (глаголом). Составь и запиши с фразеологизмом предложение.



12. Представь, что твой друг написал сочинение «Как я провёл зимние каникулы». Когда ты прочитал рассказ, то обнаружил, что друг он не знает, как обозначаются «комнаты» в разных учреждениях. Помоги товарищу заменить выделенные слова на предложенные. Запиши во вторую строку таблицы буквы подходящих слов-синонимов.

В зимние каникулы мы с бабушкой ездили в город Одесса. В поезде в комнате⁽¹⁾ с нами ехал военный. В Одессе в гостинице мы поселились в комнату⁽²⁾ сорок пять. Бабушка меня водила в музей. Там в комнате⁽³⁾ древних животных я видел скелет динозавра. Из всех развлечений мне понравилась прогулка на теплоходе. Там у нас была комната⁽⁴⁾ на верхней палубе. Из Одессы я привёз много фотографий и хочу сделать фотовыставку в нашей(ем) комнате⁽⁵⁾ в школе.

А. кабинет Б. купе В. каюта Г. зал Д. номер

1

2

3

4

5

Ответы и критерии оценивания

№	Ответ	Количество баллов
1	сон	1 балл
2	Г; Д	2 балла, выполнено 50% задания-1 балл.
3	А) Село находится. Б) Солнце село.	1 балл
4	подарками	1 балл
5	Поступил в продажу дешёвый, но очень красивый тюль. Поступили в продажу три женских пальто 48 размера.	4 балла, выполнено 50% задания - 2 балла.
6	стёкла (сущ.) - промокла (гл.) из лужи (сущ. с предлогом) - неуклюжий (прил.)	4 балла, выполнено 50% задания - 2 балла.
7	Вычитать, рассыпать, выкупать, вырезать, отрезать.	2 балла, выполнено 65% (не менее 3 слов) - 1 балл.
8	У меня печальный вид, голова моя болит. Я чихаю, я охрип. Что такое? Это грипп.	4 балла, восстановлено 3 предложения - 2 балла, 2 предложения - 1 балл.
9	А; В; Е	3 балла, за каждое верное словосочетание - 1 балл.
10	А - картошка; Б - простокваша; В - бутерброд.	6 баллов, за каждое верное слово- 2 балла.
11	Водить за нос - обманывать	4 балла, записан фразеологизм и глагол- 2 балла.
12	1-Б; 2-Д; 3-Г; 4-В; 5-А	5 баллов, за каждое верное слово - 1 балл.
Максимальное количество баллов: 37 баллов+		

Олимпиада по русскому языку 4 класс

1. В каком глаголе отрицание *нет* слышится сто раз?

Ответ: _____

2. В каждой строке определи количество звонких согласных звуков.

Отметь галочкой самую «звонкую» строку.

___ *Вот уж снег последний в поле тает.*

___ *Тёплый пар восходит от земли,*

___ *И кувшинчик синий расцветает,*

___ *И зовут друг друга журавли.*

3. У каких имен существительных нет формы единственного числа?

Подчеркни эти слова.

Очи, бигуди, волосы, жалюзи, усы, сапоги, санки, лыжи, туфли, каникулы.

4. Подбери и запиши слова, которые соответствуют данным схемам.

Напиши в скобках, какими частями речи они являются.

1) Вы _____ ишь (_____)

2) _____ ка (_____)

3) _____ овая (_____)

5. Ребятам надо было написать примеры однокоренных слов.

Кто из них выполнил задание верно?

Выбери букву верного ответа. _____

Маша: поле, полянка, заполярье, полевой.

Дима: голубь, голубика, голубятня.

Андрей: сорняк, соринка, засорился.

Варя: конь, законный, конюшня.

Даша: взгляд, глядеть, соглядатай.

А	Андрей и Даша не сделали ошибок.
Б	Маша и Варя не сделали ошибок.
В	Только Андрей не сделал ошибок.
Г	Дима и Даша не сделали ошибок.
Д	Только Маша не сделала ошибок.

6. Как превратить неодушевлённые существительные *белки, трусы, стрелки* в одушевлённые, не изменяя в них ни одной буквы? Сформулируй свои действия для выполнения задания.

Ответ: _____

Объяснение: _____

7. Отгадай морфологическую шараду.

Корень извлечь из **начинки** несложно,
Приставка в **сосуде** хранится надёжно,
Суффикс в **гудении** явно услышишь,
Вместе - на темы различные пишешь.

Ответ: _____

8. Расшифруй фразы. Запиши орфографически правильно.

1) сбк – дрг члвк

2) члвк бз дрзй, чт скл бз крлв

1) _____

2) _____

9. Раскрой скобки и запиши словосочетания с числительными по образцу:

Образец: 2 (друг) – два друга, второй друг.

3 (люди) - _____

7 (носок) - _____

6 (кочерга) - _____

11 (помидор) - _____

10. Подбери к фразеологизмам левого столбика антонимы из правого столбика. Соедини линией пары фразеологизмов-антонимов.

Не разлей вода.

За тридевять земель.

Спусти рукава.

На всех парах.

Рукой подать.

Как кошка с собакой.

В час по чайной ложке.

В поте лица.

11. Даны два китайских слова и их переводы на русский язык:

火车 – паровоз

火山 – вулкан

Переведи на русский язык ещё три слова:

1) 车

2) 火

3) 山

Выбери верный ответ:

А) гора, огонь, повозка;

Г) повозка, огонь, гора;

Б) гора, повозка, огонь;

Д) огонь, повозка, гора.

В) повозка, гора, огонь;

12. Прочитай фрагмент текста из словарной статьи школьного энциклопедического словаря. Вставь пропущенные слова.

«(1) _____ – упорядоченная совокупность основных знаков письма – букв. Русский (1) _____ называют также (2) _____. Термин (2) _____ встречается в русских текстах с XIII в., а прямое заимствование (1) _____ – с XV в. Понятие (1) _____ содержит как минимум

следующие признаки: а) буквенный состав, б) порядок букв, в) начертания и г) названия букв. Современный русский (1) _____ насчитывает (3) _____ буквы, которые располагаются в строго определённом порядке от (4) ___ до _____. Без знания буквенного состава (1) _____ и начертаний букв невозможен сам процесс письма и чтения, а знание порядка букв в (1) _____ необходимо для пользования словарями, справочниками, различными каталогами, где информация расположена в (5) _____ порядке».

Ответы и критерии оценивания

№	Ответ	Количество баллов
1	стонет	1 балл
2	И зовут друг друга журавли.	1 балл
3	Бигуди, жалюзи, санки, каникулы.	2 балла (4 слова). Выполнено 50% задания и более - 1 балл.
4	1) Вы_____ишь – глагол 2) _____ка – существительное 3) _____овая – прилагательное	3 балла За правильно подобранные слова – по 0,5 балла, за определение частей речи – по 0,5 балла.
5	А — Андрей и Даша не сделали ошибок. Примечание: Соглядатай – человек, который за кем-то наблюдает, шпионит.	1 балл
6	<i>бе'лки, тру'сы, стрелки'</i> Объяснение: надо/необходимо изменить ударение.	2 балла. Выполнено 50% задания – 1 балл.
7	сочинение	1 балл
8	1) Собака - друг человека. 2) Человек без друзей, что сокол без крыльев.	2 балла. За каждое правильно написанное предложение- 1 балл; при наличии каждой орфографической ошибки – снижается 0,5 балла.
9	Три человека, третий человек. Семь носков, седьмой носок. Шесть кочерег, шестая кочерга. Одиннадцать помидоров, одиннадцатый помидор.	4 балла (8 словосочетаний). За каждое правильно написанное словосочетание- 0,5 балла; при наличии каждой орфографической ошибки - снижается 0,5 балла.
10	Не разлей вода. – Как кошка с собакой. Спусти рукава. – В поте лица. Рукой подать. – За тридевять земель. В час по чайной ложке. – На всех парах.	4 балла. За каждую пару фразеологизмов-антонимов- 1 балл.
11	Г) повозка, огонь, гора.	2 балла

12	1) алфавит (и формы слова) 2) азбука 3) 33 (или тридцать три) 4) а, я 5) алфавитном	5 баллов. За каждое слово -1 балл; при наличии каждой орфографической ошибки - снижается 0,5 балла.
Максимальное количество: 28 баллов		

Олимпиада по русскому языку 4 класс

1. В каком женском имени встречается тридцать букв Я? Напиши слово.

Ответ: _____

2. Подсчитай, сколько глаголов пишутся с НЕ раздельно.

(Не)доумевать, (не)прыгать, (не)навидеть, (не)грубить, (не)жадничать,
(не)лениться, (не)годовать, (не)здоровиться. (не)торопиться.

Ответ запиши цифрой: ____

3. Ребята поспорили, как правильно поставить ударение в словах в соответствии с современными литературными нормами. Кто из ребят прав? Выбери букву правильного ответа.

А) Я созвалаА гостей, налилаА всем чаю, порезала тортЫ. А после всё прибралаА и помыла посуду.

Б) Я созвалаА гостей, налилаА всем чаю, порезала тОрты. А после всё прибралаА и помыла посуду.

В) Я созвАла гостей, налИла всем чаю, порезала тОрты. А после всё прибрАла и помыла посуду.

Г) Я созвАла гостей, налилаА всем чаю, порезала тортЫ. А после всё прибралаА и помыла посуду.

Ответ: _____

4. Допиши в клетки такое слово, чтобы предложение одинаково читалось слева направо и справа налево.

АРБУЗ У

		Б		
--	--	---	--	--

5. В каждой строчке найди «лишнее» слово. Подчеркни его.

А) приставка, предлог, суффикс, корень

Б) подлежащее, существительное, сказуемое

В) прилагательное, подлежащее, существительное, глагол

Г) повествовательное, вопросительное, побудительное, распространённое

6. Отгадай загадку. Напиши в скобках отгадку. Определи, сколько раз в загадке встречается звук [о].

Посмотрите, дом стоит,

До краёв водой налит.

Без окошек, но не мрачный

С четырёх сторон прозрачный.

В этом домике жильцы –

Все прекрасные пловцы. (_____) Ответ: звук [о] - __ раз.

7. Подбери к каждому слову из первого столбика, соответствующее слово из второго столбика. Запиши букву верного ответа.

- | | |
|------------------------|----------------|
| 1) глагол | А) котлет |
| 2) местоимение | Б) одиннадцать |
| 3) числительное | В) принесите |
| 4) имя прилагательное | Г) мясных |
| 5) имя существительное | Д) мне |

Ответ:

1	2	3	4	5

8. Найди «беглеца». Особые приметы: есть приставка и суффикс. Также известно, что в этом слове три слога, количество звуков и букв совпадает. Напиши слово.

Бабу снежную лепили,
Даже ужин позабыли.
Вместо носика - морковка,
На плечах её - обновка.

Ответ: _____

9. Успешному ученику необходимо развивать умение образовывать однокоренные слова. Докажи свою успешность, образуя от данных слов однокоренные имена существительные 1-го склонения. Запиши.

помощь - _____ француз - _____
горох - _____ снег - _____
салат - _____ виноград - _____

10. Выбери строчку, в которой верно определены все части речи. Запиши ответ буквой. Подчеркни грамматическую основу предложения.

Вероокая трышь грузло обкисляла закорявку.

- А) глаг.- сущ.- глаг.- прил.- сущ.
Б) прил.,-сущ.-нареч.-глагол.-сущ.
В) прил.- сущ.- глаг.- прил.- сущ.

Ответ: _____

11. Представь, что Волк однажды побывал в библиотеке. Разгадай ребус и напиши, что больше всего заинтересовало Волка.

Ответ: _____



12. Запиши предложения, исправив ошибки в употреблении фразеологизмов.

На субботнике наш класс хорошо работал, сложа руки.

От моего дома до школы очень близко, за тридевять земель.

Ответы и критерии оценивания

№	Ответ	Количество баллов										
1	Зоя	1 балл										
2	5	1 балл										
3	Б	1 балл										
4	зубра <i>Пояснение: АРБУЗ У ЗУБРА</i>	1 балл										
5	А) приставка, <u>предлог</u> , суффикс, корень Б) подлежащее, <u>существительное</u> , сказуемое В) прилагательное, <u>подлежащее</u> , существительное, глагол Г) повествовательное, вопросительное, побудительное, <u>распространенное</u>	2 балла, за каждое верное слово - 0,5 балла										
6	Отгадка: аквариум звук [о] – 8 раз.	2 балла, выполнено 50% задания - 1 балл										
7	<table border="1" style="margin-left: auto; margin-right: auto;"> <tr> <td>1</td> <td>2</td> <td>3</td> <td>4</td> <td>5</td> </tr> <tr> <td>В</td> <td>Д</td> <td>Б</td> <td>Г</td> <td>А</td> </tr> </table>	1	2	3	4	5	В	Д	Б	Г	А	1 балл
1	2	3	4	5								
В	Д	Б	Г	А								
8	обновка	2 балла										
9	помощница, француженка, горошница, снежинка, салатница, виноградинка. <i>Пояснение: возможны другие примеры однокоренных слов.</i>	6 баллов, по 1 баллу за каждое слово										
10	Б Вероокая <u>трышь</u> грузло <u>обкисляла</u> <u>закорявку</u> .	2 балла, выполнено 50% задания - 1 балл										
11	Иллюстрации	2 балла										
12	На субботнике наш класс работал, засучив рукава . От моего дома до школы очень близко, рукой подать . <i>Пояснение: постановку запятой при написании фразеологизма не учитывать.</i>	4 балла, по 2 балла за каждое предложение с фразеологизмом										
Максимальное количество баллов: 25 баллов												
<i>Примечание: за орфографическую ошибку снижается 0,5 балла.</i>												

Олимпиада по русскому языку 4 класс

Базовый уровень

1. Сколько всего звонких согласных звуков в скороговорке? Выбери правильный ответ.

Хитрую сороку поймать морока,

А сорок сорок – сорок морок.

А) 10 Б) 11 В) 12 Г) 13

2. Поставь в словах ударение в соответствии с современными литературными нормами.

Дециметр, жалюзи, звонит, избалованный, красивее, торты.

3. Найди лишнее слово по грамматическому признаку. Подчеркни слово.

Муравьишка, зайчишка, скворушка, соловушка, коровушка.

4. В «сказочном» языке есть слово рашмявка. Известно, что рашмявка изменяется так: рашмявка, рашмявки, рашмявке.

У этого слова есть родственные слова: рашмявить, шмява, шмявок, нашмяв.

В словах рашмявка, гукочка, дюжарка - одинаковый суффикс.

В словах рашмявка, равука, раличка - одинаковая приставка.

Разбери по составу слово рашмявка.

5. Допиши такое слово, чтобы предложение читалось одинаково и слева направо, и справа налево.

На

--	--	--	--	--	--	--

 доме.

6. Представь, что Чудо-Юдо заколдовало заморскую принцессу. «Только тот меня расколдует, кто сможет без ошибок составить цепочку слов по принципу: слово - антоним, синоним антонима - его антоним!»- молвила принцесса.

Сжалился над девушкой Иван-царевич и составил цепочки слов.

Есть ли среди них та, которая может расколдовать принцессу?

Выбери правильный ответ.

Ответ: _____



7. Допиши окончания имён прилагательных в следующих словосочетаниях:

Больш... кенгуру, хохлат... какаду, уютн... кафе, чёрн... вуаль, стар... рояль, горяч... кофе, прозрачн... тюль, детск... шампунь.

Повышенный уровень

8. Успешному ученику необходимо развивать умение склонять имена существительные. Докажи свою успешность, выбрав примеры несклоняемых существительных, то есть таких существительных, у которых при изменении по падежам не изменяется форма слова. Заполни таблицу.

- 1) ученик 1: пальто, такси, какао, пюре.
2) ученик 2: аллея, кенгуру, пальто, такси, шофёр.
3) ученик 3: ведро, зло, шофёр, аллея, зеркало.

1	2	3

А) Все имена существительные несклоняемые.

Б) Все имена существительные склоняемые.

В) Среди несклоняемых имен существительных есть те, которые изменяются по падежам.

9. Отгадай грамматические примеры и запиши слово-ответ:

С + тонкая ветка = _____

С + летний дом для отдыха = _____

С + хвойный лес = _____

10. Прочитай слова жгут, пила, попугай. Подумай, какой частью речи они могут быть. Составь по два словосочетания с каждым словом так, чтобы эти слова являлись разными частями речи. Укажи над словами части речи.

Максимальный уровень

11. Подбери русские пословицы, подходящие по смыслу к данным:

Вьетнамская: Неторопливый слон быстрее достигает цели, чем резвый жеребец.

Русская: _____

Финская: Тот не заблудится, кто спрашивает.

Русская: _____

Польская: Как заяц в ананасе.

Русская: _____

12. Узнай в картинке фразеологизм и запиши его.

Замени устойчивое выражение одним словом (глаголом).

Составь и запиши с фразеологизмом предложение.



Ответы и критерии оценивания

№	Ответ	Количество баллов						
1	В) 12	1 балл						
2	Дециметр, жалюзи, звонит, избалованный, красивее, торты.	2 балла; выполнено более 50% задания - 1 балл						
3	Коровушка - ж.р.	1 балл						
4	Рашмявк - основа Ра - приставка Шмяв - корень К - суффикс А - окончание	1 балл						
5	На доме чемодан.	1 балл						
6	А)	1 балл						
7	Большой кенгуру, хохлатый какаду, уютное кафе, чёрная вуаль, старый рояль, горячий кофе, прозрачный тюль, детский шампунь.	2 балла; выполнено более 50% задания - 1 балл						
8	<table border="1" style="display: inline-table; vertical-align: middle;"> <tr> <td>1</td> <td>2</td> <td>3</td> </tr> <tr> <td>А</td> <td>В</td> <td>Б</td> </tr> </table>	1	2	3	А	В	Б	1 балл
1	2	3						
А	В	Б						
9	С + мелкое место поперёк реки = сброд С + тонкая ветка = спрут С + летний дом для отдыха = сдача С + хвойный лес = сбор	4 балла; по 1 баллу за каждое слово; за орфографическую ошибку снижается 0,5 балла.						
10	Например: жгут (гл.) мусор – наложить жгут (сущ.)	6 баллов; 6 баллов – составлены 3 пары словосочетаний верно и указаны части речи; 4 балла – составлены 2 пары словосочетаний верно и указаны части речи; 2 балла – составлена 1 пара словосочетаний и указаны части речи; 2 балла - составлены 3-4 словосочетания (при этом части речи указаны верно);						

		за орфографическую ошибку снижается 0,5 балла.
11	Тише едешь, дальше будешь. Язык до Киева доведёт. Как сыр в масле (катается).	6 баллов; по 2 балла за каждую пословицу; за орфографическую ошибку снижается 0,5 балла.
12	Зарубить на носу. – запомнить	3 балла; за составленный фразеологизм- 1 балл; за глагол-синоним- 1 балл; за предложение-1 балл; за орфографическую ошибку снижается 0,5 балла.
Максимальное количество баллов: 29 баллов		
Примечание: за орфографическую ошибку снижается 0,5 балла.		

Олимпиада по русскому языку 4 класс

Базовый уровень

1. В каких словах все согласные звуки мягкие? Обведи правильный ответ.

- А) шёл, лимон, пальто
- Б) майка, тетрадь,мышь
- В) чай, сирень, семечки

2. Укажи слова с орфограммой «Парные согласные в корне слова».

- А) трудный, сельский, звонкий
- Б) берёзка, юбка, травка
- В) ненастный, свистнул, грустный

3. Отгадай слово, в котором каждая буква заменена её порядковым номером.

9 10 14 1 _____

4. Успешному ученику необходимо развивать умение читать различные схемы. Докажи свою успешность, выбрав схему, которая соответствует словосочетанию «выбежал из дома».

x ↓ СУЩ. СУЩ.	x ↓ ГЛАГ. СУЩ.	x ↓ СУЩ. ГЛАГ.	x ↓ СУЩ. ПРИЛ.	x ↓ СКАЗ. ПОДЛ.
А)	Б)	В)	Г)	Д)

5. Подчеркни подлежащее в каждом предложении.

Брат сварил кофе. Кофе выпил брат.

6. Сказочная дверь защищена кодовым замком. Помоги героям открыть её и ввести предложение, в котором есть предлог! Найди подходящие предложения и обведи буквы.

- А) Я решил (от)крыть окно.
- Б) Щенок (за)бежал (за)сарай.
- В) Мы были далеко (от)дома.
- Г) Мы (за)шли домой.

7. Как превратить неодушевлённые существительные *белки*, *труссы*, *стрелки* в одушевлённые, не изменяя в них ни одной буквы?

Сформулируй свои действия для выполнения задания.

Ответ: _____

Повышенный уровень

8. Вставь пропущенные буквы. С одним из словосочетаний составь распространённое предложение.

пол...скать рот — пол...скать котёнка;
отв...реть дверь — отв...реть картофель.

9. Поставь имена существительные в форму родительного падежа множественного числа:

Носки - _____ каникулы - _____
помидоры - _____ ботинки - _____

10. О каком слове идёт речь? Запиши.

Мой корень родственник *сраженья*.

Приставка в слове *заявление*,

В *наборщике* есть суффикс мой,

А весь тружусь я под землёй. _____

Максимальный уровень

11. Составь предложения со словами в разных позициях:

А) белил (сущ. - масляная краска);

Б) белил (гл. - покрывать мелом, известью, красить);

В) чернила (гл. - придавать чему-либо чёрный цвет);

Г) чернил (сущ. - жидкий краситель, пригодный для письма)

Запиши предложения.

А) _____

Б) _____

В) _____

Г) _____

12. Заменяй выражения одним словом (глаголом). Составь с одним из них предложение.

Работать, засучив рукава - _____

Витать в облаках - _____

Воды в рот набрал - _____

Дать стрекача - _____

Ответы и критерии оценивания

№	Ответ	Количество баллов
1	В	1 балл
2	Б	1 балл
3	зима	1 балл
4	Б	1 балл
5	Брат; брат	1 балл
6	Б, В	2 балла
7	надо/необходимо изменить ударение	2 балла
8	полоскать рот — поласкать котёнка, отворить дверь — отварить картофель; предложения составлены в соответствии с нормами стилистики, отсутствуют орфографические ошибки	4 балла; задание выполнено не менее 50% - 2 балла.
9	носки – носков, помидоры – помидоров, каникулы – каникул, ботинки – ботинок.	Всего – 2 балла. Задание выполнено не менее 50% – 1 балл.
10	забойщик	1 балл
11	составлены предложения, в соответствии с предложенным условием, учтены стилистические нормы, отсутствуют орфографические ошибки.	4 балла; выполнено не менее 50% задания - 2 балла
12	работать, засучив рукава - трудиться, стараться витать в облаках – фантазировать, мечтать воды в рот набрал – молчать, не говорить дать стрекача - убежать Составлено предложение с одним из устойчивых сочетаний слов с соблюдением орфографических и стилистических норм.	1 балл 1 балл 1 балл 1 балл 2 балла всего- 6 баллов.
Максимальное количество баллов: 26 баллов		

Олимпиада по окружающему миру 4 класс

1. «Разминка». Переставь буквы так, чтобы получились слова.
ХПАИТ, ЛЬТООП, КРЕД, АИНСО, ИЕНЛИНЦСАТВ, ИБЯНРА.

2. «Всё обо всём». Выполни тесты.

1. *Что определяет Конституция нашей страны?*

- а) Права всех граждан нашей страны.
- б) Обязанности всех граждан нашей страны.
- в) Права и обязанности всех граждан нашей страны.
- г) Правила поведения каждого гражданина нашей страны.

2. *При какой температуре вода начинает переходить из жидкого состояния в твёрдое?*

- а) при 10 градусах в) при 0 градусах
- б) при 100 градусах г) зимой

3. *Символом Всемирного фонда дикой природы является -*

- а) медведь в) панда
- б) коала г) кондор

4. *Какой вид почвы существует?*

- а) плодзём в) сладзём
- б) краснозём г) белозём

5. *Месяц с самым длинным днём.*

- а) май в) март
- б) июль г) июнь

6. *С какого возраста детям можно садиться на переднее сидение автомобиля?*

- а) с 15 лет в) с 12 лет
- б) с 14 лет г) с 18 лет

7. *Самая большая планета Солнечной системы.*

- а) Венера в) Юпитер
- б) Плутон г) Нептун

3. Вставьте в пустые клетки цифры по порядку: от причины к следствию, чтобы объяснить круговорот воды в природе.

1. Вода стекает в водоёмы.

2. В воздухе вода превращается в туман.

--	--	--	--	--	--

3. Нагретый воздух поднимает воду вверх.

4. Вода выпадает в осадок.

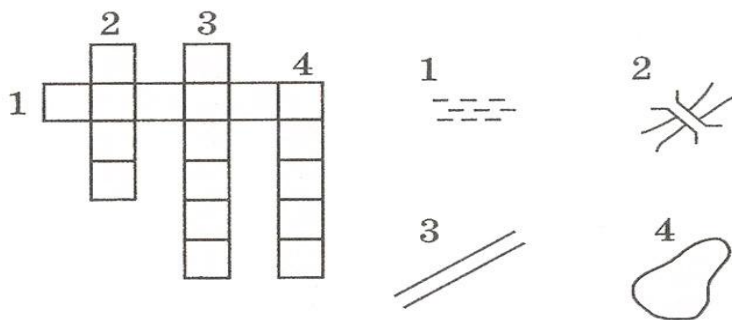
5. Воздух остывает.

6. Солнце нагревает воздух.

4. Найдите в рассказе фактические ошибки подчеркните их.

Наступила осень. Со всех деревьев опадают последние листья. Животные готовятся к зиме. Некоторые птицы улетают на юг. Это журавли, кукушки, синицы, грачи. Заяц, ёж, лиса меняют шубки на более тёплые и густые. Белка и ёж делают запасы, медведь и крот засыпают до весны. Убраны овощи и хлебные растения, начинается сенокос, сгребают опавшую листву.

5. Разгадай кроссворд и запиши в клетки словами топографические обозначения:



6. Подпиши название природной зоны. Вычеркни лишнее слово в каждой из данных групп.

лишайники	лебедь	тюлень	верблюд	белка
чайки	белая куропатка	ковыль	ушастый ёж	бурый медведь
тюлень	белый медведь	степной орёл	песчаный удавчик	глухарь
брусника	северный олень	дрофа	верблюжья колючка	кедровка
морж	песец	суслик	морозка	карликовая ива

7. Рассмотрите следы на снегу. Определи, каким животным они принадлежат.



8. «Знатокам истории». Напиши год и век.

- а) Год основания Москвы - _____ г. _____ век
 б) Год окончания Великой Отечественной войны - _____ г. _____ век
 в) Первый полёт человека в космос - _____ г. _____ век
 г) Воссоединение Крыма с Россией - _____ г. _____ век

9. Запиши название. Когда в Россию завезли это растение, а случилось это при Петре¹, то крестьяне не признавали его в качестве съедобного растения. Да и знатные люди чаще использовали его нежные цветы как украшение. А сегодня мы не представляем себе наш ежедневный и праздничный стол без этого вкусного овоща. _____

10. Какие из перечисленных прогнозов – экологические? Подчеркни.

1. Если ветер подует с севера – похолодает.
2. Если вечером долго смотреть телевизор – можно утром проспать и опоздать в школу.
3. Если вырубить дуплистые деревья – птицам негде будет селиться, и они покинут лес, значит, размножатся вредители деревьев.
4. Если не выучишь урок – получишь двойку, и мама будет ругать.

Ответы и критерии оценивания

№	Ответ	Количество баллов																														
1	ПИХТА, ТОПОЛЬ, КЕДР, ОСИНА, ЛИСТВЕННИЦА, РЯБИНА.	по 1 балл за каждое слово, всего 6 баллов																														
2.		7 баллов																														
1	в) Права и обязанности всех граждан нашей страны.	1 балл																														
2	в) при 0 градусах	1 балл																														
3	в) панда	1 балл																														
4	б) краснозём	1 балл																														
5	г) июнь	1 балл																														
6	в) с 12 лет	1 балл																														
7	в) Юпитер	1 балл																														
3	<table style="display: inline-table; border-collapse: collapse;"> <tr> <td style="border: 1px solid black; padding: 2px 5px;">6</td> <td style="border: 1px solid black; padding: 2px 5px;">3</td> <td style="border: 1px solid black; padding: 2px 5px;">2</td> <td style="border: 1px solid black; padding: 2px 5px;">5</td> <td style="border: 1px solid black; padding: 2px 5px;">4</td> <td style="border: 1px solid black; padding: 2px 5px;">1</td> </tr> </table>	6	3	2	5	4	1	1 балл																								
6	3	2	5	4	1																											
4	Наступила осень. Со всех деревьев опадают последние листья. Животные готовятся к зиме. Некоторые птицы улетают на юг. Это журавли, кукушки, синицы , грачи. Заяц, ёж , лиса меняют шубки на более тёплые и густые. Белка и ёж делают запасы, медведь и крот засыпают до весны. Убраны овощи и хлебные растения, начинается сенокос, в садах сгребают опавшую листву.	По 1 б за каждое правильное слово. Если допущены ошибки, то из баллов, набранных за правильные ответы, вычитается количество ошибок и засчитывается разность баллов. Всего 6 баллов.																														
5	болото — 1, мост — 2, дорога — 3, озеро — 4.	По 1 баллу за каждое слово. Всего 4 балла.																														
6	<table style="width: 100%; border-collapse: collapse; text-align: center;"> <thead> <tr> <th style="border: 1px solid black; padding: 2px;">Арктическая пустыня</th> <th style="border: 1px solid black; padding: 2px;">Тундра</th> <th style="border: 1px solid black; padding: 2px;">Степь</th> <th style="border: 1px solid black; padding: 2px;">Пустыня</th> <th style="border: 1px solid black; padding: 2px;">Тайга</th> </tr> </thead> <tbody> <tr> <td style="border: 1px solid black; padding: 2px;">лишайники</td> <td style="border: 1px solid black; padding: 2px;">лебедь</td> <td style="border: 1px solid black; padding: 2px;"><i>тюлень</i></td> <td style="border: 1px solid black; padding: 2px;">верблюд</td> <td style="border: 1px solid black; padding: 2px;">белка</td> </tr> <tr> <td style="border: 1px solid black; padding: 2px;">чайки</td> <td style="border: 1px solid black; padding: 2px;">белая куропатка</td> <td style="border: 1px solid black; padding: 2px;">ковыль</td> <td style="border: 1px solid black; padding: 2px;">ушастый ёж</td> <td style="border: 1px solid black; padding: 2px;">бурый медведь</td> </tr> <tr> <td style="border: 1px solid black; padding: 2px;">тюлень</td> <td style="border: 1px solid black; padding: 2px;">белый медведь</td> <td style="border: 1px solid black; padding: 2px;">степной орёл</td> <td style="border: 1px solid black; padding: 2px;">песчаный удавчик</td> <td style="border: 1px solid black; padding: 2px;">глухарь</td> </tr> <tr> <td style="border: 1px solid black; padding: 2px;"><i>брусника</i></td> <td style="border: 1px solid black; padding: 2px;">северный олень</td> <td style="border: 1px solid black; padding: 2px;">дрофа</td> <td style="border: 1px solid black; padding: 2px;">верблюжья колючка</td> <td style="border: 1px solid black; padding: 2px;">кедровка</td> </tr> <tr> <td style="border: 1px solid black; padding: 2px;">морж</td> <td style="border: 1px solid black; padding: 2px;">песец</td> <td style="border: 1px solid black; padding: 2px;">суслик</td> <td style="border: 1px solid black; padding: 2px;"><i>морошка</i></td> <td style="border: 1px solid black; padding: 2px;"><i>карликовая лиса</i></td> </tr> </tbody> </table>	Арктическая пустыня	Тундра	Степь	Пустыня	Тайга	лишайники	лебедь	<i>тюлень</i>	верблюд	белка	чайки	белая куропатка	ковыль	ушастый ёж	бурый медведь	тюлень	белый медведь	степной орёл	песчаный удавчик	глухарь	<i>брусника</i>	северный олень	дрофа	верблюжья колючка	кедровка	морж	песец	суслик	<i>морошка</i>	<i>карликовая лиса</i>	По 1 баллу за каждое правильное слово. Если допущены ошибки, то из баллов, набранных за правильные ответы, вычитается количество
Арктическая пустыня	Тундра	Степь	Пустыня	Тайга																												
лишайники	лебедь	<i>тюлень</i>	верблюд	белка																												
чайки	белая куропатка	ковыль	ушастый ёж	бурый медведь																												
тюлень	белый медведь	степной орёл	песчаный удавчик	глухарь																												
<i>брусника</i>	северный олень	дрофа	верблюжья колючка	кедровка																												
морж	песец	суслик	<i>морошка</i>	<i>карликовая лиса</i>																												

	Тундровый лебедь — самый маленький и самый многочисленный — обитает преимущественно в зоне тундры . Он в два раза легче, чем лебеди других видов (массой 5—6 кг).	ошибок и засчитывается разность баллов. Всего 9 баллов.
7	 сова лось медведь сорока	По 1 баллу за каждое правильное слово. Всего 4 балла.
8	а) Год основания Москвы — 1147 г. 12 век б) Год окончания Великой Отечественной войны — 1945 г. 20 век в) Первый полёт человека в космос — 1961 г. 20 век г) Воссоединение Крыма с Россией — 2014 г. 21 век	По 1 баллу за правильный год и по 1 баллу за век. Всего 8 баллов.
9	картофель	1балл
10	3.Если вырубить дуплистые деревья – птицам негде будет селиться, и они покинут лес, значит, размножатся вредители деревьев.	1балл
Максимальное количество баллов: 47 баллов		

Олимпиада по окружающему миру 4 класс

1. Подберите пары подходящих слов и соедините их стрелками:

планета	Солнце
материк	Земля
сторона горизонта	Россия
страна	Москва
столица	Евразия
село	Север
город	Михайловское
звезда	Самара

2. Подчеркни правильный ответ.

а) Какова причина смены дня и ночи?

- Солнце движется вокруг Земли;
- Земля вращается вокруг своей оси;
- Земля вращается вокруг Солнца;
- Земля то приближается, то удаляется от Солнца;
- ось вращения Земли немного наклонена.

б) Перистые, слоистые, кучевые-это

- листья;
- волны;
- облака;
- осадки.

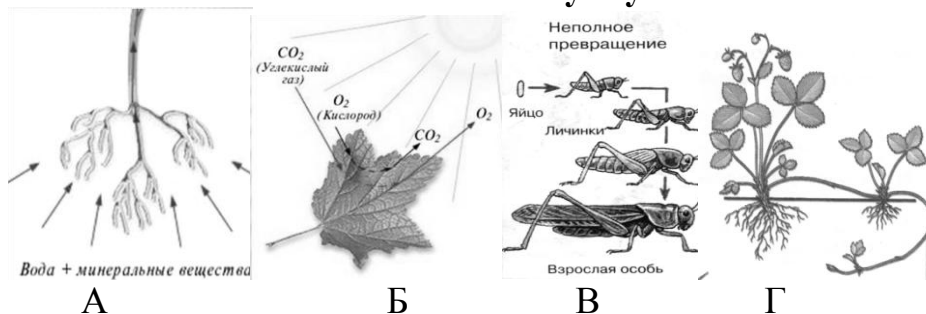
3. Ответь одним словом.

1. Крупная река в Сибири с женским именем. _____
2. Континент, не имеющий рек и озёр. _____
3. Какую часть Земного шара занимает суша? _____
4. Самый большой океан. _____
5. Какой город выдержал 900-дневную блокаду фашистов, но не сдался?

4. Узнай полезное ископаемое по описанию. Заполни таблицу – укажи название и использование полезных ископаемых.

№	Свойства	Название	Использование
1.	Черный, твердый, горит, тяжелее воды.		
2.	Серый (может быть другого цвета), твердый, колется с трудом, тяжелее воды.		
3.	Черный, жидкий, легче воды, горит.		
4.	Белый, рыхлый, легко колется, крошится.		

5. Какие признаки живых организмов изображены на рисунках? Установи соответствие. Укажи букву.




Признаки живых организмов:

1. Размножение - _____ 3. Дыхание - _____
 2. Развитие - _____ 4. Питание - _____

6. Заполните таблицу. Напишите название группы животных по набору свойственных ей признаков.

Характерные признаки	Название группы
Водные животные с обтекаемой формой тела, покрыты чешуей. Перемещаются с помощью плавников. Дышат с помощью жабр.	
Животные, обитают в воде и на суше. Кожа у них голая и слизкая. Дышат легкими и всей поверхностью кожи. Откладывают икру.	
Большинство животных, обитает на суше. Тело у них сухое и покрыто чешуей. Дышат с помощью легких. Откладывают яйца.	
Большинство животных обитает на суше. Тело покрыто шерстью. Рождают живых детенышей.	
Летающие животные, покрытые перьями. Откладывают небольшое количество яиц.	

7. Начерти план местности так, чтобы с севера на нем была школа, окруженная фруктовым садом, с юга – болото, с востока – река с деревянным мостом, а с запада – грунтовая дорога.



8. Почему...

А) ... глобус разноцветный?

Б) ... снег хрустит под ногами?

В) ... в густом молодом березняке поверхность земли голая, нет цветущих растений и зеленой травы? Только прошлогодние листья лежат на поверхности почвы, да кое-где виднеются проростки семян ели.

Г) ... так говорят: «Не нервничай, нервные клетки не восстанавливаются»?

9. «Узнай историческую личность».

А) Она была первой в русской истории женщиной, которая правила государством. Православная церковь нарекла её святой, равноапостольной княгиней, а русский народ прозвал Мудрой. _____

Б) В детстве его звали Варфоломей. С ранних лет он решил стать монахом – посвятить жизнь Богу. Был скромн, много трудился сам и призывал к труду других. Он является основателем главной лавры России. _____

В) Маршалом Победы называли этого выдающегося полководца, героя Великой Отечественной войны. Во время войны все знали: если он прибывает на фронт – жди больших событий.


10. Сделай экологический прогноз о дальнейших изменениях в природе.

А) Отдыхающие в лесу горожане сорвали с корнем все съедобные грибы, а несъедобные растоптали.

Б) Из водоема извлекли все водоросли для промышленных целей.

Ответы и критерии оценивания

№	Ответ	Количество баллов																
1	<table border="1" style="width: 100%; border-collapse: collapse;"> <tr><td style="background-color: yellow;">планета</td><td style="background-color: lightblue;">Солнце</td></tr> <tr><td style="background-color: green;">материк</td><td style="background-color: yellow;">Земля</td></tr> <tr><td style="background-color: brown;">сторона горизонта</td><td style="background-color: orange;">Россия</td></tr> <tr><td style="background-color: orange;">страна</td><td style="background-color: red;">Москва</td></tr> <tr><td style="background-color: red;">столица</td><td style="background-color: green;">Евразия</td></tr> <tr><td style="background-color: magenta;">село</td><td style="background-color: brown;">Север</td></tr> <tr><td style="background-color: purple;">город</td><td style="background-color: magenta;">Михайловское</td></tr> <tr><td style="background-color: lightblue;">звезда</td><td style="background-color: purple;">Самара</td></tr> </table>	планета	Солнце	материк	Земля	сторона горизонта	Россия	страна	Москва	столица	Евразия	село	Север	город	Михайловское	звезда	Самара	4балла, по 0,5 балла за каждый правильный ответ
планета	Солнце																	
материк	Земля																	
сторона горизонта	Россия																	
страна	Москва																	
столица	Евразия																	
село	Север																	
город	Михайловское																	
звезда	Самара																	
2	а) <u>Земля вращается вокруг своей оси</u> б) <u>облака</u>	2 балла																
3	1. Лена 2. Антарктида 3. третья (или в виде дроби) 4. Тихий 5. Ленинград	5 баллов																
4	1) Уголь, топливо. 2) Гранит, строительство. 3) Нефть, топливо. 4) Мел, строительство.	4 балла, (0,5 балла за правильно написанное полезное ископаемое и 0.5 балла его назначение)																
5	1. Размножение – Г 3. Дыхание - Б 2. Развитие – В 4. Питание - А	2 балла, по 0,5 балла за каждый правильный ответ.																
6	<table border="1" style="width: 100%; border-collapse: collapse;"> <thead> <tr> <th style="text-align: left;">Характерные признаки</th> <th style="text-align: left;">Название группы</th> </tr> </thead> <tbody> <tr> <td>Водные животные с обтекаемой формой тела, покрыты чешуей.</td> <td>Рыбы</td> </tr> <tr> <td>Животные, обитают в воде и на суше. Кожа у них голая и склизкая. Дышат легкими и всей поверхностью кожи. Откладывают икру.</td> <td>Земноводные</td> </tr> <tr> <td>Большинство животных, обитает на суше. Тело у них сухое и покрыто чешуей. Дышат с помощью легких. Откладывают яйца.</td> <td>Пресмыкающиеся</td> </tr> <tr> <td>Большинство животных обитает на суше. Тело покрыто шерстью. Рождают живых детенышей. Вскармливают молоком.</td> <td>Млекопитающие (звери)</td> </tr> <tr> <td>Летающие животные, покрытые перьями. Откладывают небольшое количество яиц.</td> <td>Птицы</td> </tr> </tbody> </table>	Характерные признаки	Название группы	Водные животные с обтекаемой формой тела, покрыты чешуей.	Рыбы	Животные, обитают в воде и на суше. Кожа у них голая и склизкая. Дышат легкими и всей поверхностью кожи. Откладывают икру.	Земноводные	Большинство животных, обитает на суше. Тело у них сухое и покрыто чешуей. Дышат с помощью легких. Откладывают яйца.	Пресмыкающиеся	Большинство животных обитает на суше. Тело покрыто шерстью. Рождают живых детенышей. Вскармливают молоком.	Млекопитающие (звери)	Летающие животные, покрытые перьями. Откладывают небольшое количество яиц.	Птицы	5 баллов, по 1 баллу за каждый правильный ответ				
Характерные признаки	Название группы																	
Водные животные с обтекаемой формой тела, покрыты чешуей.	Рыбы																	
Животные, обитают в воде и на суше. Кожа у них голая и склизкая. Дышат легкими и всей поверхностью кожи. Откладывают икру.	Земноводные																	
Большинство животных, обитает на суше. Тело у них сухое и покрыто чешуей. Дышат с помощью легких. Откладывают яйца.	Пресмыкающиеся																	
Большинство животных обитает на суше. Тело покрыто шерстью. Рождают живых детенышей. Вскармливают молоком.	Млекопитающие (звери)																	
Летающие животные, покрытые перьями. Откладывают небольшое количество яиц.	Птицы																	

7		5 баллов, по 1 баллу за каждый правильный объект
8	<p>А) С помощью разных цветов глобус рассказывает о Земле. Каждый цвет – это условное обозначение: голубой – моря, океаны, реки, озера. Чем глубже водоем, тем более темный синий цвет будет на глобусе. Ровные, низкие пространства окрашены в зеленый цвет. Более высокие участки суши, от возвышенностей до гор, окрашены от темно-желтого до темно-коричневого.</p> <p>Б) Это ломаются лучики снежинок, издавая при этом характерный звук.</p> <p>В) Здесь мало света, светолюбивые и травянистые растения не растут, но зато создались условия для прорастания семян теневыносливых растений.</p> <p>Г) В отличие от других клеток организма, клетки мозга не меняются в течение всей жизни. Они просто погибают, а новые на их месте не появляются. Это вызывает различные болезни, например, потерю памяти, нарушения движения и др.</p>	6 баллов, А и Б – по 1 баллу при условии обоснованного ответа; В и Г – по 2 балла при условии обоснованного ответа
9	<p>А) Княгиня Ольга Б) Сергей Радонежский В) Г.К. Жуков</p>	3 балла, по 1 б. за правильный ответ
10	<p>А) Уменьшится минеральное питание деревьев и кустарников, корни которых срастаются с грибницей. На этом месте грибы больше не вырастут, а значит, пострадают животные, для которых грибы являются пищей и лекарством.</p> <p>Б) Погибнут многие животные в водоеме, т.к. начнется кислородное голодание. Животным негде будет укрываться и нечем питаться. Начнут вымирать хищники водоема, потому что им не хватит пищи, т.к. они поймают всех мелких животных, оставшихся без укрытия.</p>	4 балла, 2 балла за прогноз
Максимальное количество баллов: 40 баллов		

Олимпиада по окружающему миру 4 класс

1. Подчеркни только то, что может быть изображено на глобусе.
Дома, озёра, леса, горы, острова, деревни, дороги, реки.

2. Укажи название природного сообщества:

злак → сайгак → волк → микроорганизмы одноклеточные _____

водоросли → циклопы → карась → щука → мотыль _____

ель → белка → куница → жук → мертвоед _____

клюква → куропатка → ястреб → микроорганизмы _____

3. Какие моря имеют цветные названия?

Ответ: _____

4. Найдите животное, у которого детёныша называют щенком.



Ответ: _____

5. Какое из перечисленных сражений не происходило в Великую Отечественную войну?

А) сражение на Курской дуге;

Б) битва за Кавказ;

В) битва за Днепр;

Г) Куликовская битва;

Д) оборона Ленинграда

6. Собери из букв как можно больше названий полезных ископаемых (буквы можно использовать несколько раз)

ЗНТЕИКОФГРАМСПЬЛ

Ответ: _____

7. Узнай материки по описанию и запиши их названия.

А) Я самый маленький материк с самым сухим климатом, полностью нахожусь в Южном полушарии.

Ответ: _____

Б) И я нахожусь в Южном полушарии, но почему-то люди не спешат заселить меня.

Ответ: _____

В) А я почти весь нахожусь между северными и южными тропиками, меня называют самым жарким материком.

Ответ: _____

8. Тебе известны озера страны. Они разные по величине. Познакомься с содержанием таблицы. *Крупнейшие озера России*

Название	Площадь (тыс.км ²)
А. Онежское	10
Б. Байкал	32
В. Ладожское	18
Г. Каспийское	376
Д. Таймыр	6

Подчеркни в таблице букву названия озера, которое больше Ладожского, но меньше Каспийского.

9. Ответь на вопросы.

а) Горы, протянувшиеся с севера на юг через всю нашу страну – это _____

б) Материк, на котором мы живём – это _____

в) В это озеро впадает 336 рек, а вытекает всего лишь, одна - Ангара. Что это за озеро? _____

г) Великая русская река, протекающая, по европейской части нашей страны.

д) Равнина, раскинувшаяся от западных границ России до Уральских гор

е) Какая птица умеет нырять и бегать по дну? _____

ж) Один оборот вокруг своей оси Земля делает за _____

з) Главный закон страны называется _____

Ответы и критерии оценивания

№	Ответ	Количество баллов
1	Озёра, леса, горы, острова, реки	За каждый правильный ответ по 1 баллу, итого 5 баллов
2	Луг, озеро, лес, болото	За каждый правильный ответ по 1 баллу, итого 4 балла
3	Красное море, Черное море, Белое море, Желтое море	За каждый правильный ответ по 1 баллу, итого 4 балла
4	Лиса	2 балла
5	Г) Куликовская битва	1 балл
6	Газ, песок, нефть, торф, мел, соль, глина, мрамор, гранит.	За каждый правильный ответ по 0,5 баллов, итого 4,5 баллов
7	Австралия, Антарктида, Африка	За каждый правильный ответ по 1 баллу, итого 3 балла
8	Байкал	1 балл
9	А) Уральские горы Б) Евразия В) Байкал Г) Волга Д) Восточно-Европейская или Русская равнина Е) оляпка Ж) 24 часа З) Конституция	За каждый правильный ответ по 0,5 баллов, итого 4 балла
Максимальное количество баллов: 28,5 баллов		

Олимпиада по окружающему миру 4 класс

1. Прочитай визитную карточку про Россию. Обведи букву предложения, в котором ты нашёл ошибку.

А. Россия занимает **третью** часть Евразии.

Б. С севера на юг разделена **Кавказскими** горами.

В. В европейской части страны простирается **Восточно-Европейская** равнина, в западной части – **Западно-Сибирская** равнина.

Г. Самая высокая вершина Кавказских гор – **Эльбрус**.

Напиши правильный вариант ответа. **Ответ:** _____

2. Что объединяет эти понятия? Запиши обобщающее слово(а)

А) Радуга, смерч, гроза, ураган - _____

Б) Хлорофитум, бегония, камнеломка, традесканция - _____

В) Париж, Токио, Стокгольм, Неаполь - _____

3. Верны ли утверждения? Ответь да или нет.

Утверждения	Да или нет
На Земле 6 материков и 4 океана.	
Россия расположена на материке Европа.	
Тигры умеют плавать.	
Природа может обойтись без человека, а человек нет.	
Лягушка пьёт ногой.	
У только что родившегося ежа иголки колются.	
Кролики к зиме меняют свою шубу.	
Стрекоза – самый прожорливый хищник планеты.	
Арбуз - это фрукт.	
У кукушки кукует самец	

4. Какие из перечисленных ниже имён пропущены в кратких рассказах об исторических деятелях России:

_____ высоко оценивал роль образования. Он считал, что во всяком деле нужно разбираться досконально. Например, он не только знал, как устроены корабли, но и сам мог обрабатывать дерево, сколачивать доски и выполнять другие «нецарские работы» при постройке корабля.

_____ много сделал для расширения территории России и защиты её границ, был образованным и эрудированным человеком, но с детства отличался хулиганским нравом и остался в истории как один из жестоких правителей.

Князь _____ был прозван Донским за победу в Куликовской битве, одержанную над войсками Золотой Орды под предводительством _____. На Красной площади Москвы стоит _____.

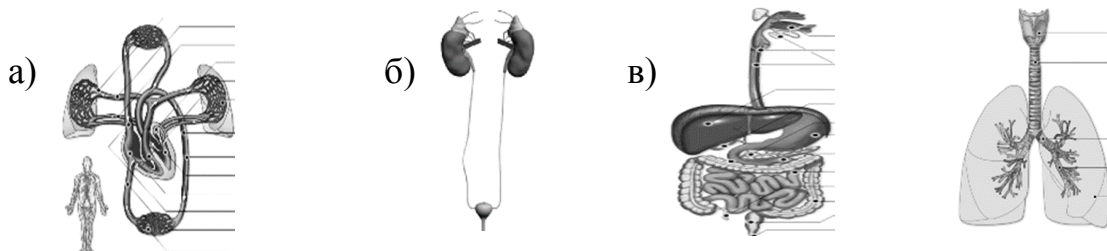
памятник _____ и князю _____, которые в тяжёлое для России время организовали и возглавили народную борьбу против польских захватчиков

5. Почему воробьи и другие мелкие птицы зимой взъерошивают перья?

6. Древние скифы вселялись в свои дома после пожара, потому что их дома, ископаемого, становились от огня крепче. Что использовали древние скифы для постройки своих жилищ?

Ответ: _____

7. Рассмотрите рисунки. Определите представленные системы органов. Напишите их названия.




Ответ: а) _____ б) _____ в) _____ г) _____

8. Прочитай рассказ, найди экологические ошибки, подчеркни их.

Осень в лесу

Хорошо дышится в осеннем лесу! Просторно и светло. Цветущих растений совсем мало, но и над ними продолжают кружиться насекомые: жуки, бабочки, пауки, комары. Птиц почти нет, лишь изредка услышишь стук дятла да кукование кукушки. Растения и животные леса готовятся к зиме. Со всех деревьев опадают последние листья, белка и ёж делают запасы, медведь и крот засыпают до весны, все насекомые погибают, многие звери линяют. Скоро придет суровая и длинная зима.

9. Отметь герб Свердловской области.



10. Собери из букв как можно больше названий рек России. Буквы можно использовать несколько раз.

НИЛВОГАБЕСЙДМУР. Запиши эти названия.

Ответы и критерии оценивания

№	Ответ	Количество баллов																						
1	Ответ Б. Уральскими горами	2 балла																						
2	Природные явления Комнатные растения Города	3 балла																						
3	<table border="1" style="width: 100%; border-collapse: collapse;"> <thead> <tr> <th style="text-align: center;">Утверждения</th> <th style="text-align: center;">Да или нет</th> </tr> </thead> <tbody> <tr> <td>На Земле 6 материков и 4 океана.</td> <td style="text-align: center;">Да</td> </tr> <tr> <td>Россия расположена на материке Европа.</td> <td style="text-align: center;">Нет</td> </tr> <tr> <td>Тигры умеют плавать.</td> <td style="text-align: center;">Да</td> </tr> <tr> <td>Природа может обойтись без человека, а человек нет.</td> <td style="text-align: center;">Да</td> </tr> <tr> <td>Лягушка пьёт ногой.</td> <td style="text-align: center;">Да</td> </tr> <tr> <td>У только что родившегося ежа иголки колются.</td> <td style="text-align: center;">Нет</td> </tr> <tr> <td>Кролики к зиме меняют свою шубу.</td> <td style="text-align: center;">Нет</td> </tr> <tr> <td>Стрекоза – самый прожорливый хищник планеты.</td> <td style="text-align: center;">Да</td> </tr> <tr> <td>Арбуз - это фрукт.</td> <td style="text-align: center;">Нет</td> </tr> <tr> <td>У кукушки кукует самец</td> <td style="text-align: center;">Да</td> </tr> </tbody> </table>	Утверждения	Да или нет	На Земле 6 материков и 4 океана.	Да	Россия расположена на материке Европа.	Нет	Тигры умеют плавать.	Да	Природа может обойтись без человека, а человек нет.	Да	Лягушка пьёт ногой.	Да	У только что родившегося ежа иголки колются.	Нет	Кролики к зиме меняют свою шубу.	Нет	Стрекоза – самый прожорливый хищник планеты.	Да	Арбуз - это фрукт.	Нет	У кукушки кукует самец	Да	За каждый правильный ответ по 1 баллу, итого 10 баллов
Утверждения	Да или нет																							
На Земле 6 материков и 4 океана.	Да																							
Россия расположена на материке Европа.	Нет																							
Тигры умеют плавать.	Да																							
Природа может обойтись без человека, а человек нет.	Да																							
Лягушка пьёт ногой.	Да																							
У только что родившегося ежа иголки колются.	Нет																							
Кролики к зиме меняют свою шубу.	Нет																							
Стрекоза – самый прожорливый хищник планеты.	Да																							
Арбуз - это фрукт.	Нет																							
У кукушки кукует самец	Да																							
4	<p>Петр Первый высоко оценивал роль образования.</p> <p>Иван Грозный много сделал для расширения территории России</p> <p>Князь Дмитрий Иванович был прозван Золотой Орды под предводительством Мамая.</p> <p>На Красной площади Москвы стоит памятник Кузьме Минину и князю Дмитрию Пожарскому, которые</p>	6 баллов																						
5	Между взъерошенными перьями находится много воздуха, таким образом, птицы меньше теряют тепла	2 балла																						
6	Глина	2 балла																						
7	А) кровообращения Б) выделения В) пищеварения Г) дыхания	4 балла																						
8	Ответ: пауки, кукушка, со всех деревьев, ёж,	6 баллов																						

	крот, все насекомые	
9	Б)	1 балл
10	Волга, Енисей, Амур, Нева, Лена, Урал и другие возможные правильные варианты	За каждый правильный ответ 1 балл. Всего 6 баллов.
Максимальное количество баллов: 42 балла		

Олимпиада по окружающему миру 4 класс

1. Установи соответствие между страной и её достопримечательностью
Ответ запиши в таблице справа: к каждой цифре страны подбери соответствующую букву её достопримечательности

Страны	Достопримечательности	Номер	Буква ответа
1. Индия	А. Парфенон	1	
2. Италия	Б. Тадж-Махал	2	
3. Франция	В. Колизей	3	
4. Греция	Д. Эрмитаж	4	
5. Россия	Г. Лувр	5	

2. Ответь на блиц вопросы одним словом. Запиши ответы в таблицу

Вопросы	Ответы
1.Какая страна имеет самую большую территорию?	
2. Сильная мышца и очень большой труженик?	
3.На каком материке нет рек?	
4.Из какого полезного ископаемого строят опоры мостов?	
5. Кто является автором стихов Государственного гимна России?	
6. Самое крупное сухопутное животное?	
7.Какое растение заставляет человека плакать?	
8.Наука о связях между живыми существами и окружающей средой, между человеком и природой?	
9.К какой системе органов относится поджелудочная железа?	
10.В каком году началась Отечественная война с французами?	

3.Установи соответствие. Соедини стрелками правильные ответы.

1631 г.
988г.
2014г.
1941 г.

Воссоединение Крыма с Россией
Начало Великой Отечественной войны
Год основания Ирбита
Крещение Руси

4. Выбери верные утверждения, запиши в графе ответ через запятую

Во время прогулки по лесу Егор рассказал родителям, как следует вести себя при встрече с дикими животными, например, если ты встретил волка. Какие утверждения Егора являются верными?

- 1) Громко кричать.
- 2) Повернуться к нему спиной.
- 3) Быстро убежать.
- 4) Залезть на дерево.
- 5) Фотографировать.

Ответ: _____

5. Составь и запиши названия четырёх птиц, если все они начинаются с буквы П

ЛИ	ПАВ	КАН	ЛИН	ПИНГ	СОЙ
ГАЙ	ПО	ПЕ	КА	ВИН	ПУ

Ответ: _____

6. Реши историческую задачу и запиши ответ с объяснением. Кто старше – Сидор или Трофим, если Сидор родился в 1789 году, а Трофим – в начале XVIII века.

Ответ: _____

7. Узнай по описанию и запиши ответ.

а) Это полезное ископаемое. Твердый, хрупкий, бурого цвета, состоит из остатков растений, легче воды, тускло горит. **Ответ:** _____

б) Это самый маленький материк с самым сухим климатом, полностью находится в Южном полушарии.

Ответ: _____

в) Это удивительное дерево-медонос, часто можно встретить в городе. Цветёт в середине лета. Листья в форме сердечка, а плоды – тёмные орешки.

Ответ: _____

8. Реши географическую задачу. Если сегодня самый короткий день в году, то какое это время года?

Ответ: _____

Какой это месяц?

Ответ: _____

9. Найдите в тексте ошибки-слова и подчеркните их.

Лесная зона расположена к северу от зоны тундры. Растительный мир богат. Большую территорию зоны занимает широколиственный лес. В лесной зоне широко распространёнными животными являются лось, медведь, антилопа, белая куропатка. Лес является домом для растений, животных, грибов.

10. Прочитай текст. Ответь на вопрос.

Наша Земля постоянно изменяется: возникают овраги, разрушаются горы, на их месте образуются равнины. Учёные даже говорят, что изменение поверхности Земли – это результат работы трёх «великих мастеров». Что это за мастера?

Ответ: _____

11. Подпиши названия этих знаков.







Ответы и критерии оценивания

№	Ответ	Количество баллов
1. 1	1 - б 2 - в 3 - г 4 - а 5 - д	За каждый правильный ответ по 1 баллу. Итого 5 баллов
2	1 - Россия 2 - сердце 3 - Антарктида 4 - гранит 5 - Сергей Михалков 6 - слон 7 - лук 8 - экология 9 - пищеварения 10 - 1812 год	За каждый правильный ответ по 1 баллу. Итого 10 баллов.
3	1631 - год основания Ирбита 988 - крещение Руси 2014 - воссоединение Крыма с Россией 1941 - начало Великой Отечественной войны	За каждый правильный ответ по 1 баллу. Итого 4 балла.
4	1,4. Нельзя убежать, поворачиваться спиной к волку и фотографировать	За каждый правильный ответ по 1 баллу. Итого 2 балла.
5	Павлин, пингвин, попугай, пеликан	За каждый правильный ответ по 1 баллу. Итого 4 балла.
6	Трофим начало XVIII века, а Сидор в конце XVIII века, поэтому Трофим старше	2 балла с объяснением 1 балл без объяснения Итого 2 балла.
7	а) Торф, б) Австралия в) Липа	За каждый правильный ответ по 1 баллу. Итого 3 балла.
8	Зима Декабрь	За каждый правильный ответ по 2 балла. Итого 4 балла.

9	К северу (к югу), широколиственный лес (тайга), антилопа, белая куропатка	За каждый правильный ответ по 1 баллу Итого 4 балла
10	Вода, ветер, солнце	За каждый правильный ответ по 1 баллу Итого 3 балла
11	Катание на роликах запрещено! Велосипедная дорожка. Выгул собак запрещён	За каждый правильный ответ по 1 баллу Итого 3 балла
Максимальное количество баллов: 44 балла		

Олимпиада по окружающему миру 4 класс

1. Допиши к именам собственным географические названия.
Северный Ледовитый _____, Уральские _____,
Восточно – Европейская _____, Чёрное _____,
Баренцево _____, Западно - Сибирская _____.

**2. Запиши название официальных государственных символов России.
Построй полное предложение.**

3. Выбери, что относится к небесным телам и запиши буквы в ответе:

- а) ЗВЁЗДЫ б) ПЛАНЕТЫ в) ПТИЦЫ
г) БАБОЧКИ д) КОМЕТЫ е) МЕТЕОРИТЫ

Ответ: _____

**4. С какого возраста детям можно садиться на переднее сидение
автомобиля? Обведи номер ответа.**

- а) с 15 лет б) с 14 лет в) с 12 лет г) с 18 лет

5. Назови понятия, соответствующие этим определениям:

а) Время, за которое Земля совершает полный оборот вокруг Солнца

б) Особая территория, на которой растения и животные находятся под особой охраной _____

в) Определи полезное ископаемое по его описанию: чёрный, блестит, твёрдый, но хрупкий, горит _____

6. Напиши к какому веку относится каждая дата. Запиши историческое событие, которое произошло в этом году.

а) 988 год _____ век _____

б) 1147 год _____ век _____

в) 1941-1945 годы _____ век _____

**7. Выбери каждой группе растений верную характеристику. Укажи в
таблице соответствующую букву**

1. Водоросли	А. Растения этой группы имеют все части: корень, стебель, листья, цветки и плоды. Эти растения наиболее разнообразны.
--------------	---

2. Мхи	Б. У этих растений нет цветков и плодов. На месте плодов у них шишки, в которых созревают семена.
3. Папоротники	В. Это жители воды. Некоторых из них можно рассмотреть только в микроскоп. Другие похожи на длинные бурые ленты (например, морская капуста)
4. Хвойные растения	Г. Они растут во влажных местах. У них есть стебли и листья, но не бывает корней, цветков и плодов с семенами.
5. Цветковые растения	Д. У этих растений есть корни, стебли и листья, но нет цветков и плодов с семенами. Их легко узнать по красивым листьям, похожим на большие перья.

Таблица ответов.

1.	2.	3.	4.	5.

8. Почему в еловом лесу приход весны всегда запаздывает?

9. Реши ребусы. Запиши названия. Подчеркни, что лишнее, запиши почему?



10. Найди и подчеркни ошибки в рассказе ученика.

Уши человека-очень важный орган дыхания. Они помогают ему улавливать различные звуки, слушать музыку, читать книги, разговаривать и понимать собеседника. Слишком тихие звуки могут повредить уши, и человек начнёт хуже слышать. Этот орган осязания нужно беречь от ударов и острых предметов.

Ответы и критерии оценивания

№	Ответ	Количество баллов										
1	Северный Ледовитый океан, Уральские горы, Восточно - Европейская равнина, Чёрное море, Баренцево море, Западно - Сибирская низменность (равнина)	За каждый правильный ответ по 1 баллу. Итого 6 баллов										
2	Официальные государственные символы России-герб, гимн, флаг.	3 балла - указаны все символы, составлено полное предложение. 2 балла - указаны все символы, но не составлено предложение, 1 -балл - указано 2 символа. Итого 3 балла.										
3	а), б), д), е).	За каждый правильный ответ по 1 баллу. Итого 4 балла.										
4	в)	Итого 1 балл										
5	а) год (365, 366 дней) б) заповедник в) уголь	За каждый правильный ответ по 1 баллу Итого 3 балла										
6	а) Хв. Крещение Руси б) XII в. Официальная дата основания Москвы в) XX Великая Отечественная война	Правильно указан век и событие – 2 балла. Итого 6 баллов.										
7	Таблица ответов. <table border="1" style="margin-left: auto; margin-right: auto;"> <tr> <td style="text-align: center;">1.</td> <td style="text-align: center;">2.</td> <td style="text-align: center;">3.</td> <td style="text-align: center;">4.</td> <td style="text-align: center;">5.</td> </tr> <tr> <td style="text-align: center;">В</td> <td style="text-align: center;">Г</td> <td style="text-align: center;">Д</td> <td style="text-align: center;">Б</td> <td style="text-align: center;">А</td> </tr> </table>	1.	2.	3.	4.	5.	В	Г	Д	Б	А	За каждый правильный ответ по 1 баллу. Итого 5 баллов.
1.	2.	3.	4.	5.								
В	Г	Д	Б	А								
8	Еловые ветки почти <u>не пропускают солнечный свет</u> . В еловом лесу больше тени, <u>поэтому прохладнее</u> и <u>снег тает медленнее</u> . Весна не наступает.	Если указаны 3 и более признаков - 3 балла полный ответ, 2 балла или 1 балл за неполный ответ. Итого 3 балла.										
9	Тигр, лебедь, медведь. Лебедь - это птица.	За каждый правильный ответ по 1 баллу + 1 балл за объяснение, что лишнее. Итого 4 балла.										

10	<p>Уши человека-очень важный орган <u>дыхания</u>. Они помогают ему улавливать различные звуки, слушать музыку, <u>читать книги</u>, разговаривать и понимать собеседника. Слишком <u>тихие</u> звуки могут повредить уши, и человек начнёт хуже слышать. Этот орган <u>осязания</u> нужно беречь от ударов и острых предметов.</p>	<p>За каждый правильный ответ по 1 баллу. Итого 4 балла.</p>
<p>Максимальное количество баллов: 39 баллов</p>		

Олимпиада по окружающему миру 4 класс

1. Какие из перечисленных прогнозов – экологические?

Выбери номер предложения.

1. Если ветер подует с севера – похолодает.
2. Если вечером долго смотреть телевизор – можно утром проспять и опоздать в школу.
3. Если вырубить дуплистые деревья – птицам негде будет селиться, и они покинут лес, значит, размножатся вредители деревьев.
4. Если не выучишь урок – получишь «двойку», и мама будет ругать.

2. Определи признаки живого организма:

- а) движется, питается, размножается, растёт, дышит;
- б) питается, размножается, растёт, умирает, дышит;
- в) размножается, дышит, растёт, питается, летает;
- г) дышит, видит, растёт, умирает, размножается.

3. Узнай животное по описанию:

Эта птица размером со скворца. Оперение тёмно-бурое, густое, несмачивающееся. Обитает по берегам быстрых рек и ручьёв. Питается водными насекомыми и рачками, которых она собирает на мелководье, между камней и под водой. Главной особенностью являются способность хорошо плавать и нырять. Приподнимая крылья и ловко маневрируя в потоке воды, птица как бы «бежит» по дну. Под водой она может оставаться до 50 секунд, пробегая за это время до 20 м. Гнездо устраивает всегда близ воды, между береговыми камнями или в норах, построенных из мха и стебельков трав.

Это _____

4. На военном корабле самые толстые стальные стены надёжно прикрывают боевую рубку, где находится командный пункт корабля. Твой мозг – командный пункт организма. И природа охраняет его так же заботливо, как моряки свою боевую рубку.

О какой боевой рубке идёт речь? Ответ: _____

5. Как называются эти органы чувств? Напиши.

1. Глаза - орган _____
2. Уши - орган _____
3. Язык - орган _____
4. Кожа - орган _____
5. Нос - орган _____

6. Допиши нужное слово, сохраняя смысловую связь.

Гвоздь - металл, льдина - _____

Сахар - чистое вещество, почва - _____

Бульон - жидкость, кислород - _____

7. Найди ошибку в утверждении. Выпиши слово – ошибку, затем напиши правильное слово.

Петербург был основан на гористой местности в устье реки Невы.

Слово - ошибка: _____ Правильное слово: _____

8. Где могут встретиться друг с другом белый медведь и пингвин?

А) в Арктике

Б) в Антарктике

В) в зоопарке

9. Угадайте, о каком животном говорится в одной из арабских рукописей, относящихся к IV веку: «Он бежит быстрее бури, быстрее взгляда. Он чист, как золото. В темноте разглядит волосок; он может настигнуть газель. Он говорит орлу: «Я мчусь, как ты...» Бег его ровен и покоен.

Ответ: _____

10. Назовите понятия, соответствующие указанным определениям.

А) Уменьшенное изображение земной поверхности на плоскости с помощью условных знаков. _____

Б) Время, за которое Земля совершает полный оборот вокруг Солнца.

В) Особая территория, на которой растения и животные находятся под охраной.

11. В каком море ловят рыбу жители трёх частей света _____

12. На стволе берёзы кольцом ряд отверстий. Чья это работа?

13. Кто тяжелее: самая большая акула или слон?

Ответы и критерии оценивания

№	Ответ	Количество баллов
1	З	1 балл
2	Б	1 балл
3	Оляпка	2 балла
4	Череп.	1 балл
5	1- зрение 2 - слух 3 -вкус 4 - осязание 5 - обоняние	по 0,5 б. за каждый правильный ответ, всего - 2, 5 балла
6	Вода, смесь, газ	3 балла
7	Слово - ошибка: гористая Правильное слово : болотистая	2 балла
8	Б	1 балл
9	Конь	2 балла
10	А) карта Б) год В) заповедник	по 0,5 б. за ответ, всего - 1, 5 балла
11	Средиземное море	1 балл
12	Дятел	1 балл
13	Акула	1 балл
Максимальное количество баллов: 20 баллов		

Олимпиада по окружающему миру 4 класс

1. Установи соответствие между названиями полезных ископаемых и их свойствами, которые использует человек в своей деятельности.

Ответ запиши в таблице справа: каждой цифре полезного ископаемого подбери соответствующую букву его свойства.

Название полезного ископаемого	Свойство	Ответ	
1 гранит	А. пластичность	1	
2 глина	Б. горючесть	2	
3 торф	В. сыпучесть	3	
4 песок	Г. прочность	4	

2. Ответь на блиц вопросы. Запиши ответы в таблицу

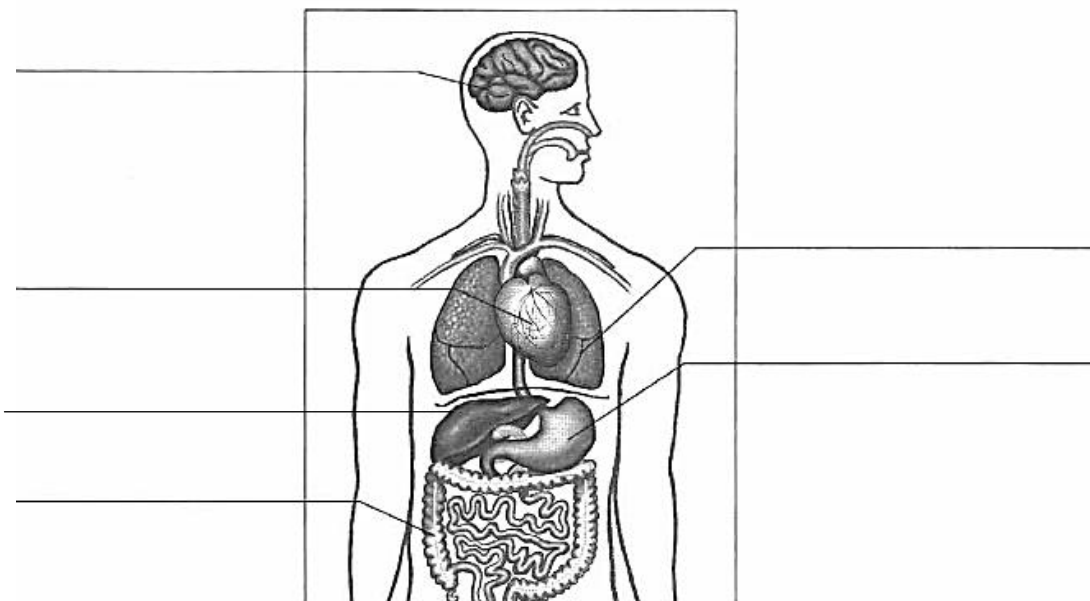
Вопросы	Ответы
1. В каких горах вырос «Каменный цветок» П. П. Бажова?	
2. Уменьшенная модель Земли	
3. Какая птица может передвигаться по деревьям вверх и вниз головой?	
4. Как называется основной закон Российской Федерации?	
5. Какие государственные символы Российской Федерации вы знаете?	
6. Движение воздуха?	
7. На каком материке находится Россия?	
8. Самое глубокое озеро в мире?	
9. Я зацветаю на 15-17 году жизни. Мои цветки по форме напоминают башмачки. В моём названии имя богини. Древнего Рима - Венера. Не рви меня! Я занесён в Красную книгу.	
10. Сколько зубов у взрослого человека?	

3. Установи соответствие. Соедини стрелками правильные ответы.

988 г.
1242 г.
1380 г.
1812 г.
1941 г.

Ледовое побоище
Отечественная война
Крещение Руси
Куликовская битва
Начало Великой Отечественной войны

4. Подпиши названия внутренних органов человека



5. Прочитай группы слов. Запиши обобщенное понятие для каждой группы.

- 1) Анды, Альпы, Гималаи - _____
- 2) пустыня, тундра, степь, тайга - _____
- 3) Антарктида, Австралия, Африка, Евразия - _____
- 4) Ладожское, Онежское, Байкал - _____
- 5) Баренцево, Берингово, Охотское, Японское - _____
- 6) Тихий, Атлантический, Индийский _____

6. Рассели животных и растения по природным зонам, запиши в таблицу: саксаул, карликовая берёза, северный олень, бурундук, дрофа, белый медведь, ковыль, мхи, пихта, тушканчик

Природная зона	Арктические пустыни	тундра	тайга	степь	пустыня
животные					
растения					

7. Реши ситуации по экологии и безопасности. Запиши ответ.

1) Назови основную причину перелёта птиц в тёплые края с приходом осени?

2) Почему весной и в начале лета нельзя шуметь в лесу?

3) Почему животных, выращенных в домашних условиях или в зоопарках, нельзя выпускать в дикую природу?

4) Объясните, почему весной опасно выходить на лед водоемов.


5) В каком возрасте можно самостоятельно ездить на велосипеде по проезжей части дороги? _____

6) Запиши номер телефона единой службы спасения _____

7) Напиши три основных правила общения в сети Интернет

8) Напиши три дела, чем ты можешь помочь природе весной

8. Заполни кроссворд на тему «Космос»



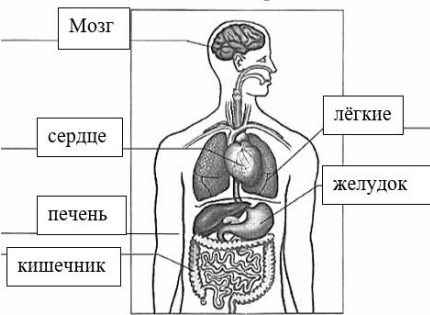
По горизонтали:

1. Планета с кольцами.
2. Красная планета.
4. Естественный спутник Земли.
5. Первый космонавт Земли.
7. Первая женщина –космонавт

По вертикали:

1. Костюм космонавта для выхода в открытый космос
3. Искусственное тело, которое вращается вокруг планеты.
6. В каком месяце отмечается День Космонавтики?
8. Космическое тело, состоящее из газов и льда.

Ответы и критерии оценивания

№	Ответ	Количество баллов																									
1	<table border="1" style="margin-left: auto; margin-right: auto;"> <tr> <td colspan="2" style="text-align: center;">Ответ</td> </tr> <tr> <td style="width: 20px; text-align: center;">1</td> <td style="text-align: center;">Г</td> </tr> <tr> <td style="text-align: center;">2</td> <td style="text-align: center;">А</td> </tr> <tr> <td style="text-align: center;">3</td> <td style="text-align: center;">Б</td> </tr> <tr> <td style="text-align: center;">4</td> <td style="text-align: center;">В</td> </tr> </table>	Ответ		1	Г	2	А	3	Б	4	В	4 балла															
Ответ																											
1	Г																										
2	А																										
3	Б																										
4	В																										
2	<table border="1" style="width: 100%;"> <tr><td>Ответы</td></tr> <tr><td>1. Уральские</td></tr> <tr><td>2. глобус</td></tr> <tr><td>3. поползень</td></tr> <tr><td>4. Конституция</td></tr> <tr><td>5. герб, флаг, гимн</td></tr> <tr><td>6. ветер</td></tr> <tr><td>7. Евразия</td></tr> <tr><td>8. Байкал</td></tr> <tr><td>9. Венерин башмачок</td></tr> <tr><td>10. 32</td></tr> </table>	Ответы	1. Уральские	2. глобус	3. поползень	4. Конституция	5. герб, флаг, гимн	6. ветер	7. Евразия	8. Байкал	9. Венерин башмачок	10. 32	6 баллов (за правильный ответ 0,5)														
Ответы																											
1. Уральские																											
2. глобус																											
3. поползень																											
4. Конституция																											
5. герб, флаг, гимн																											
6. ветер																											
7. Евразия																											
8. Байкал																											
9. Венерин башмачок																											
10. 32																											
3	<table border="1" style="width: 100%;"> <tr> <td style="width: 20%;">988г.</td> <td style="width: 20%;"></td> <td style="width: 20%;"></td> <td style="width: 20%;">Ледовое побоище</td> <td style="width: 20%;"></td> </tr> <tr> <td>1242г.</td> <td></td> <td></td> <td>Отечественная война</td> <td></td> </tr> <tr> <td>1380г.</td> <td></td> <td></td> <td>Крещение Руси</td> <td></td> </tr> <tr> <td>1812г.</td> <td></td> <td></td> <td>Куликовская битва</td> <td></td> </tr> <tr> <td>1941г.</td> <td></td> <td></td> <td>Начало Великой Отечественной войны</td> <td></td> </tr> </table>	988г.			Ледовое побоище		1242г.			Отечественная война		1380г.			Крещение Руси		1812г.			Куликовская битва		1941г.			Начало Великой Отечественной войны		5 баллов
988г.			Ледовое побоище																								
1242г.			Отечественная война																								
1380г.			Крещение Руси																								
1812г.			Куликовская битва																								
1941г.			Начало Великой Отечественной войны																								
4		3 балла (по 0,5)																									
5	<p>горы природные зоны материки озера моря океаны</p>	3 балла (за правильный ответ 0,5)																									
6	<table border="1" style="width: 100%; text-align: center;"> <tr> <td style="background-color: #cccccc;">Природная зона</td> <td style="background-color: #cccccc;">Аркт. пустыня</td> <td style="background-color: #cccccc;">тундра</td> <td style="background-color: #cccccc;">тайга</td> <td style="background-color: #cccccc;">степь</td> <td style="background-color: #cccccc;">пустыня</td> </tr> <tr> <td style="background-color: #cccccc;">Животные</td> <td style="background-color: #cccccc;">Белый медведь</td> <td style="background-color: #cccccc;">Северный олень</td> <td style="background-color: #cccccc;">Бурундук</td> <td style="background-color: #cccccc;">Дрофа</td> <td style="background-color: #cccccc;">тушканчик</td> </tr> <tr> <td style="background-color: #cccccc;">Растения</td> <td style="background-color: #cccccc;">мхи</td> <td style="background-color: #cccccc;">Карликовая берёза</td> <td style="background-color: #cccccc;">пихта</td> <td style="background-color: #cccccc;">Ковыль</td> <td style="background-color: #cccccc;">саксаул</td> </tr> </table>	Природная зона	Аркт. пустыня	тундра	тайга	степь	пустыня	Животные	Белый медведь	Северный олень	Бурундук	Дрофа	тушканчик	Растения	мхи	Карликовая берёза	пихта	Ковыль	саксаул	5 баллов (за правильный ответ 0,5)							
Природная зона	Аркт. пустыня	тундра	тайга	степь	пустыня																						
Животные	Белый медведь	Северный олень	Бурундук	Дрофа	тушканчик																						
Растения	мхи	Карликовая берёза	пихта	Ковыль	саксаул																						

7	<p>1) У птиц кончается корм, они боятся голода.</p> <p>2) Потому, что звери и птицы в это время выводят потомство, могут испугаться и уйти, оставив потомство.</p> <p>3) Они погибнут, так как не могут самостоятельно добывать пищу, не умеют самостоятельно защищаться от врагов, не смогут выжить в природных условиях данной местности.</p> <p>4) Лёд тонкий, непрочный, легко ломается</p> <p>5) С 14 лет</p> <p>6) 112</p> <p>7) 1) Никогда не рассказывайте о себе незнакомым людям. 2) Не встречайтесь без родителей с людьми из Интернета вживую.</p> <p>3) Общаясь в Интернете, будьте дружелюбны с другими.</p> <p><u>Ответы могут быть другие</u></p>	<p>4 балла (за правильный ответ 0,5)</p>												
8	<table border="0"> <tr> <td>По горизонтали:</td> <td>По вертикали:</td> </tr> <tr> <td>1. Сатурн</td> <td>1. скафандр</td> </tr> <tr> <td>2. Марс</td> <td>3. спутник</td> </tr> <tr> <td>4. Луна</td> <td>6. апрель</td> </tr> <tr> <td>5. Гагарин</td> <td>8. комета</td> </tr> <tr> <td>7. Терешкова</td> <td></td> </tr> </table>	По горизонтали:	По вертикали:	1. Сатурн	1. скафандр	2. Марс	3. спутник	4. Луна	6. апрель	5. Гагарин	8. комета	7. Терешкова		<p>4 балла (за правильный ответ 0,5)</p>
По горизонтали:	По вертикали:													
1. Сатурн	1. скафандр													
2. Марс	3. спутник													
4. Луна	6. апрель													
5. Гагарин	8. комета													
7. Терешкова														
<p>Максимальное количество баллов: 33 балла</p>														

Олимпиада по окружающему миру 4 класс

1. Как называется наша страна? Запиши полный ответ.

2. Запиши название официальных государственных символов России. Построй полное предложение.

3. Какой город является столицей нашей области. Запиши полный ответ на вопрос.

4. Распредели данные географические названия на группы. Запиши название каждой группы.

Африка, юг, Марс, Земля, Австралия, Венера, северо-запад, Евразия, запад

5. Прочитай текст и найди в нём ошибки, совершённые школьниками. Обоснуй свой выбор. Запиши свой ответ.

Воскресенье в лесу

Решили мы с одноклассниками в воскресенье поехать в лес. Дорогу мы уже знали, запаслись продуктами, взяли компас и магнитофон. Весёлой и громкой музыкой мы оповестили лес - мы прибыли! Знакомая дорога привела нас к берёзовой роще. По дороге нам часто попадались грибы: белые, подберёзовики, сыроежки. Все грибы, которые мы не знали, сбивали палками. В кустах мы нашли гнездо какой-то птицы. Взяли оттуда тёплые голубоватые яйца и положили их обратно. Мы полюбовались красотой муравейника и понаблюдали за семьёй лесных ежей. С охапками лесных цветов мы отправились домой. Прогулка удалась на славу!

6. Еж и крот - насекомоядные. Но еж впадает в зимнюю спячку, а крот - нет. Чем ты можешь это объяснить?

7. Составь из букв и запиши как можно больше названий полезных ископаемых. Буквы можно использовать несколько раз.
НГЕАФЗТЬОЛСУМДИВЯК

8. Реши ребусы. Запиши названия. Определи, что лишнее, почему.



9. Соедини стрелками части предложений:

- | | |
|------------------------------|--------------------------|
| Брусника, карликовая берёза | это животные пустыни |
| Песец, волк | это растения тундры. |
| Кипарисы, пальмы, каштаны | это хищники. |
| Ушастый еж, верблюд, ящерица | это растения субтропиков |

10. Напиши к какому веку относится каждая дата. Запиши историческое событие, которое произошло в этом году.

- а) 988 год _____ век _____
- б) 1961 год _____ век _____
- в) 1380 год _____ век _____
- г) 1242 год _____ век _____

11. Запиши свой вопрос по окружающему миру для ребят своего класса. В скобках напиши правильный ответ

Ответы и критерии оценивания

№	Ответ	Количество баллов
1	Наша страна называется Российская Федерация. (Россия)	2 балла полный ответ, 1 балл неполный ответ
2	Официальные государственные символы России-герб, гимн, флаг.	3 балла указаны все символы, полный ответ, 2 балла указаны все символы, неполный ответ, 1 балл указано 1 или 2 символа
3	Город Екатеринбург столица нашего региона.	2 балла полный ответ, 1 балл неполный ответ
4	1 группа стороны света: юг, северо-запад, запад 2 группа название планет: Марс, Земля, Венера 3 группа название материков: Африка, Австралия, Евразия	3 балла, за неверное распределение минус балл
5	<p style="text-align: center;">Воскресенье в лесу</p> <p>Решили мы с одноклассниками в воскресенье поехать в лес. Дорогу мы уже знали, запаслись продуктами, взяли компас и магнитофон. Весёлой и громкой музыкой мы оповестили лес - мы прибыли! Знакомая дорога привела нас к берёзовой роще. По дороге нам часто попадались грибы: белые, подберёзовики, сыроежки. Все грибы, которые мы не знали, сбивали палками. В кустах мы нашли гнездо какой-то птицы. Взяли оттуда тёплые голубоватые яйца и положили их обратно. Мы полюбовались красотой муравейника и наблюдали за семьёй лесных ежей. С охапками лесных цветов мы отправились домой. Прогулка удалась на славу!</p> <p>1. Громкая музыка мешает лесным жителям, пугает их. 2. Грибы нельзя сбивать, они нужны животным 3. Нельзя трогать яйца в гнезде, птица может бросить птенцов. 4. Цветы охапками рвать нельзя, лучше их сфотографировать</p>	<p>Нашел все ошибки и объяснил 4 балла</p> <p>Нашел все ошибки, но не объяснил 2 балла</p>

6	Еж зимой не может найти питание, а крот под землей может.	2 балла
7	Нефть, газ, никель, торф, олово, медь, известняк, олово, глина, песок, сера	5 баллов-больше 10 4 балла - 9,8 3 балла - 7,6 2 балла - 5,4 1 балл - 3,2,1
8	Дятел, заяц, дуб, волк Лишнее дуб - это растение, остальные животные	5 баллов все слова и лишнее Неверное слово минус балл
9	1-2 2-3 3-4 4-1	2 балла все верно, (0,5 за каждое верное). Неверное минус балл.
10	988 г - X Крещение Руси. 1961 г. - XX Первый полет человека в космос. 1380 г. - XIV Куликовская битва. 1242 г. - XIII Ледовое побоище.	4 балла все верно (0,5 за каждое) Неправильный ответ минус балл
11	Задан вопрос по окружающему миру, дан ответ	4 балла
В работе можно снизить 1балл за ошибки.		
Максимальное количество баллов: 36 баллов		

Олимпиада по окружающему миру 4 класс

1. Установи соответствие между названиями полезных ископаемых и их свойствами, которые использует человек в своей деятельности.

Ответ запиши в таблице справа: каждой цифре полезного ископаемого подбери соответствующую букву его свойства.

Название полезного ископаемого	Свойство	Номер	Буква ответа
1. нефть	А. пластичность	1	
2. мрамор	Б. горючесть	2	
3. глина	В. сыпучесть	3	
4. песок	Г. прочность	4	

2. Ответь на блиц вопросы одним словом. Запиши ответы в таблицу

Вопросы	Ответы
1. Сколько материков на планете Земля?	
2. Смена шерсти у животных	
3. На каком материке нет рек?	
4. Кто изображен на эмблеме Всемирного фонда дикой природы?	
5. Глубочайшее озеро на планете с пресной водой	
6. След какого хищного зверя похож на след человека?	
7. Какое хвойное растение сбрасывает листву на зиму?	
8. Наука, которая изучает прошлое.	
9. Сколько океанов омывает Россию?	
10. Какая птица выводит птенцов зимой?	

3. Установи соответствие. Соедини стрелками правильные ответы.

1631 г.
988 г.
1961 г.
1945 г.

Первый полет человека в космос
Окончание Великой Отечественной войны
Год основания Ирбита
Крещение Руси

4. Выбери верные утверждения, запиши в графе ответ через запятую.

Во время прогулки по лесу Вася рассказал родителям, как можно справиться без компаса, чтобы определить север и юг. Какие утверждения Васи являются верными?

- 1) Лишайники и мхи предпочитают «селиться» на камнях и деревьях с северной стороны.
- 2) Кора у березы чище и белее с северной стороны.
- 3) Трава гуще с северной стороны.
- 4) Муравейник расположен всегда с северной стороны дерева.
- 5) Грибы предпочитают расти с северной стороны пня или дерева.

Ответ: _____

5. Прочитай текст и выполни задания.

Петя получил задание в школе вести дневник наблюдения за погодой в течение мая месяца. Он измерял температуру воздуха на улице и отмечал этот показатель на координатной плоскости ежедневно. Он ставил напротив каждого дня точки, соответствующие температуре в этот день, затем соединил точки между собой последовательно. Получился график температуры.



5.1. Какого числа температура воздуха составляла 20°C?

Ответ: _____ мая


5.2. Какого числа температура воздуха была наименьшей?

Ответ: _____ мая

5.3. Какая температура была в первую среду месяца, если май начался с понедельника?

Ответ: _____ °C

6. Прочитай текст и выполни задания.



На рисунке изображена лента времени, на которой показано, какое изобретение относится к определенному периоду времени. Например, самый первый печатный станок был изобретен в XV веке Иоганом Гутенбергом.

Задание 6.1.

В каком веке были изобретены часы?

Ответ *запиши словами*: в _____ веке.

Задание 6.2.

На сколько раньше/позже были изобретены часы, чем электрическая лампочка?

Ответ: _____

7. Узнай по описанию природную зону.

а) Карликовая береза, ягель, которым с удовольствием питаются коренные жители этих мест – олени. А люди в этих местах ведут кочевой образ жизни и живут они в особенных домах-ярангах, покрытых шкурами оленей.

Ответ: _____

б) Климат умеренный. Многообразие лиственных и хвойных деревьев, кустарники. Изобилие ягод и грибов. Богатый животный мир. В малиннике можно встретить бурого медведя. В июне месяце нет спасу от комаров.

Ответ: _____

в) Январь. 12 часов дня. Солнце спрятано за горизонтом. Снежную равнину освещает только тусклый свет звёзд. Местность кажется безжизненной.

Ответ: _____

8. В этом году 350-летие со дня рождения Петра I. Петр I, путешествуя по разным странам, привез много задумок и даже растений. Официально **ввоз данного растения** связан с заграничным путешествием Петра I. Когда этот **овощ** завезли в Россию при Петре I, то крестьяне не признавали его в качестве съедобного растения. Да и знатные люди чаще использовали его нежные цветы как украшение. А сегодня мы не представляем себе наш ежедневный и праздничный стол без этого вкусного овоща. Напиши название этого растения.

Ответ: _____

9. Найдите в тексте ошибки-слова и подчеркните их.

На севере

Один из холодных районов Земли это - Северный Ледовитый океан. Здесь расположен Южный полюс. Океан скован мощной льдами и покрыт снегом. Здесь холодно, но, несмотря на это, животные не замерзают. Белых медведей, пингвинов, моржей и тюленей спасает густая шерсть и толстый слой подкожного жира.

10. Назови каждую группу обобщенным понятием. Ответы запиши рядом с цифрой каждого столбика.

1.	Анды Альпы Уральские Гималаи
2.	Тихий Атлантический Индийский Северный Ледовитый
3.	Волга Обь Лена Ирбитка
4.	Западно - Сибирская Восточно - Сибирская
5.	Ильменский Таймырский «Остров Врангеля» «Чёрные земли»
6.	Баренцево Берингово Карское Охотское

Ответы и критерии оценивания

№	Ответ	Количество баллов
1	1-б 2-г 3-а 4-в	4 балла
2	1-б 2-линька 3-Антарктида 4-панда 5-Байкал 6-медведь 7-лиственница 8-история 9-3 10-клевт	10 баллов
3	1631 г. основания Ирбита 1945 г. окончание Великой Отечественной войны 988 г. крещение Руси 1961 г. первый полет человека в космос	4 балла
4	1,4	2 балла
5.1	3 мая	1 балл
5.2	12 мая	1 балл
5.3	20°C	1 балл
6.1	тринадцатом	1 балл
6.2	6 веков, 600 лет	1 балл
7	Тундра, тайга (зона лесов), арктическая пустыня	3 балла
8	картофель	1 балл
9	Южный полюс, пингвины	2 балла
10	1-горы 2-океаны 3-реки 4-равнины 5-заповедники 6-моря	5 баллов
Максимальное количество баллов: 36 баллов		

Требования к оформлению олимпиадной работы

1. Работа должна быть оформлена по общепринятому формату: 14 кегль (шрифт), интервал - 1, шрифт – TimesNewRoman, поля: левое – 3 см, правое – 1 см, верхнее и нижнее- 2 см.

2. Работа имеет «шапку»: подписывается этап олимпиады, класс, для муниципального этапа – число, шифр участника, для школьного- фамилия, имя обучающегося.

Олимпиада по окружающему миру 3 класс (школьный тур)

Класс _____ Фамилия _____ Имя _____

Задания	1	2	3	4	5	6	7	8	9	10	11	12
Количество баллов												
Всего баллов:												

Муниципальный этап олимпиады по русскому языку 4 класс 3 марта 2022 года

Шифр
участника

Задания	1	2	3	4	5	6	7	8	9	10	11	12	Всего баллов:
Количество баллов													

3. Требования к составлению заданий.

Задания для младшего школьника не могут быть столь многообразны, как в старших классах. Характер заданий определяется, прежде всего, оптимальным объёмом умений и навыков по предметам для каждого класса. Но они не должны дублировать материал учебника, быть стандартными. Необходимо, чтобы задания вызывали интерес учащихся. Полезно в задачах прибегать к образам из окружающего мира, иногда и к сказочным сюжетам. Все задания делятся на три группы: репродуктивные, частично-поисковые и творческие.

При составлении заданий должен выполняться ряд требований:

- несколько заданий должно быть посильно всем участникам;
- часть заданий должна допускать несколько подходов к поиску решения;
- обязательно должны быть включены задания творческого характера, так как именно они способствуют выявлению одаренных учащихся;
- все задания подбираются так, чтобы учащиеся могли творчески использовать базовые знания программы данного класса (комбинаторные, логические, развивающего характера, на сообразительность);
- участник олимпиады должен покинуть соревнования, не только продемонстрировав свои знания, но и получив новые;

- объём самостоятельной работы планируется так, чтобы выполнение заданий не занимало бы больше часа.

Для школьного этапа разрабатывается 8-10 олимпиадных заданий, для муниципального – 10-12.

4. Как оценивать задания.

Необходимо заранее разработать критерии оценки каждого задания, в зависимости от его сложности. Если задание включает в себя несколько пунктов, то следует учитывать ответ на каждый пункт вопроса. Правильный ответ, требующий только знания предмета, оценивается 1 баллом. Если требуется “включить воображение”, опереться на логику и рассуждения, то ответ на подобный вопрос можно оценить 2 баллами. Если для ответа нужно произвести сложные вычисления или сделать нестандартные логические шаги, данный труд оценивается 3-4 баллами.

Ответы и критерии оценивания

№	Ответ	Количество баллов
1		2 балла
2		За каждый правильный ответ по 1 баллу, итого 3 балла
Максимальное количество баллов: ... баллов		

**Ирбит,
Свердловская область
2024 год**